

На диаграмме показано содержание питательных веществ в молочном шоколаде. Определите по диаграмме, содержание каких веществ преобладает.

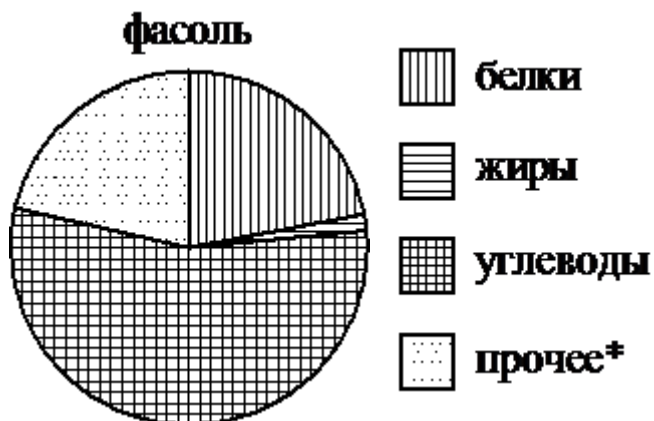


*к прочему относятся вода, витамины и минеральные вещества

- 1) белки 2) жиры 3) углеводы

В ответе запишите номер выбранного варианта ответа.

На диаграмме показано содержание питательных веществ в фасоли. Определите по диаграмме, содержание каких веществ преобладает.



*к прочему относятся вода, витамины и минеральные вещества

- 1) белки 2) жиры 3) углеводы

В ответе запишите номер выбранного варианта ответа.

На диаграмме показано содержание питательных веществ в сухарях. Определите по диаграмме, содержание каких веществ преобладает.



*к прочему относятся вода, витамины и минеральные вещества

1) белки

2) жиры

3) углеводы

В ответе запишите номер выбранного варианта ответа.

На диаграмме показано содержание питательных веществ в твороге. Определите по диаграмме, содержание каких веществ преобладает.



*к прочему относятся вода, витамины и минеральные вещества

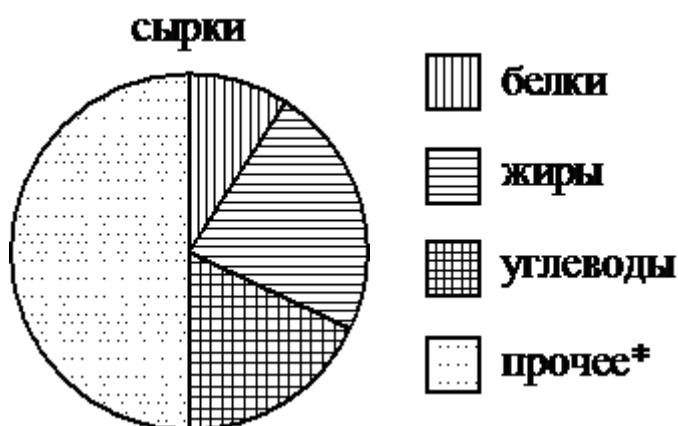
1) белки

2) жиры

3) углеводы

В ответе запишите номер выбранного варианта ответа.

На диаграмме показано содержание питательных веществ в творожных сырках. Определите по диаграмме, содержание каких веществ преобладает.



*к прочему относятся вода, витамины и минеральные вещества

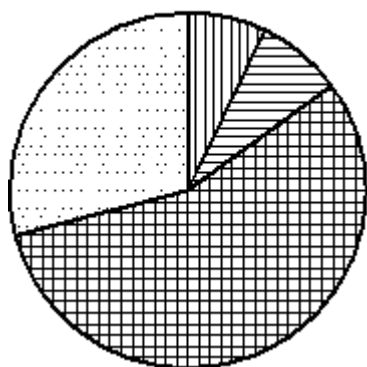
1) белки

2) жиры

3) углеводы

В ответе запишите номер выбранного варианта ответа.

На диаграмме показано содержание питательных веществ в сливочном мороженом. Определите по диаграмме, содержание каких веществ преобладает.

мороженое

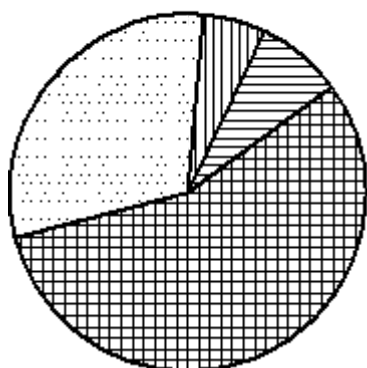
-  белки
-  жиры
-  углеводы
-  прочее*

*к прочему относятся вода, витамины и минеральные вещества

- 1) белки 2) жиры 3) углеводы

В ответе запишите номер выбранного варианта ответа.

На диаграмме показано содержание питательных веществ в сгущённом молоке. Определите по диаграмме, содержание каких веществ преобладает.

сгущённое молоко

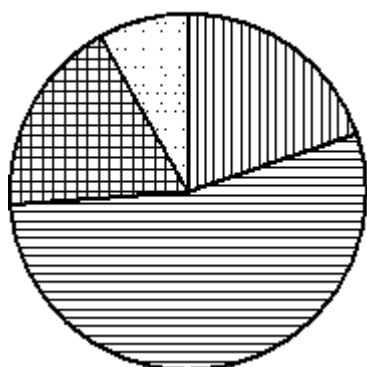
-  белки
-  жиры
-  углеводы
-  прочее*





*к прочему относятся вода, витамины и минеральные вещества

- 1) белки 2) жиры 3) углеводы

В ответе запишите номер выбранного варианта ответа.

На диаграмме показан возрастной состав населения Китая. Определите по диаграмме, население какого возраста преобладает.

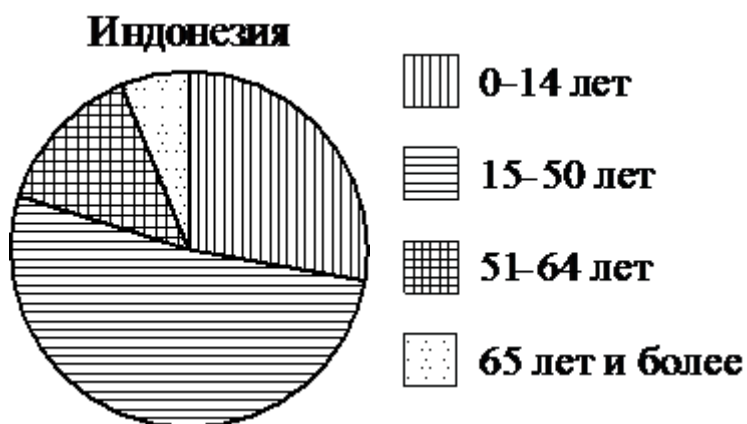
Китай

-  0–14 лет
-  15–50 лет
-  51–64 лет
-  65 лет и более

- 1) 0–14 лет 2) 15–50 лет 3) 51–64 лет

В ответе запишите номер выбранного варианта ответа.

На диаграмме показан возрастной состав населения Индонезии. Определите по диаграмме, население какого возраста преобладает.



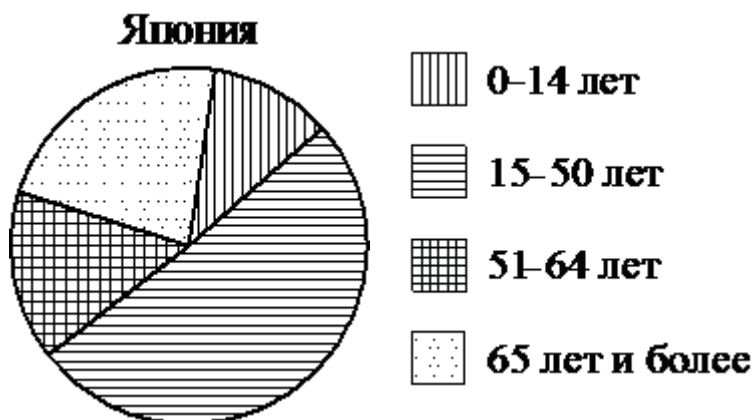
1) 0–14 лет

2) 15–50 лет

3) 51–64 лет

В ответе запишите номер выбранного варианта ответа.

На диаграмме показан возрастной состав населения Японии. Определите по диаграмме, население какого возраста преобладает.



1) 0–14 лет

2) 15–50 лет

3) 51–64 лет

В ответе запишите номер выбранного варианта ответа.

На диаграмме показан возрастной состав населения России. Определите по диаграмме, население какого возраста преобладает.



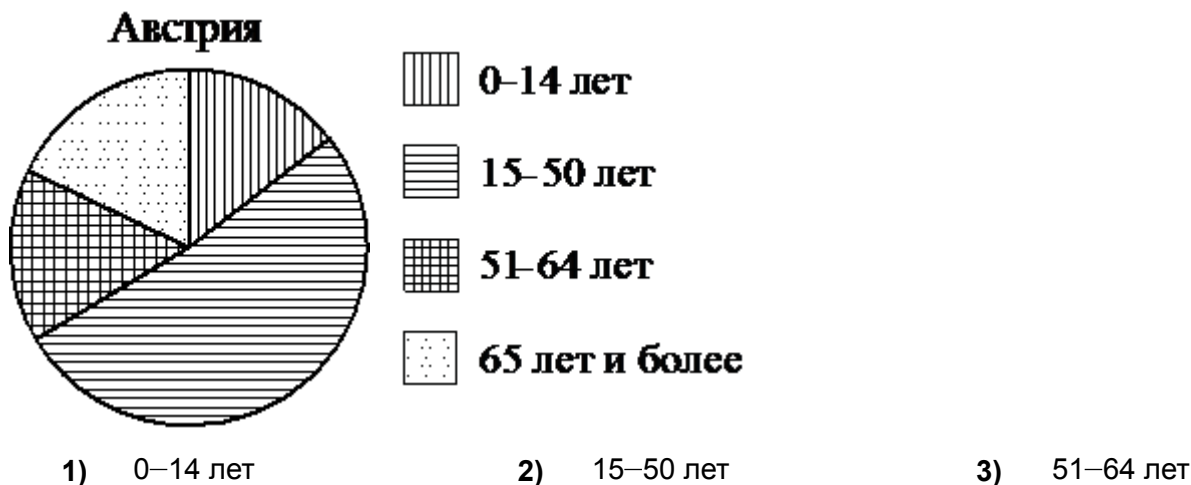
1) 0–14 лет

2) 15–50 лет

3) 51–64 лет

В ответе запишите номер выбранного варианта ответа.

На диаграмме показан возрастной состав населения Австрии. Определите по диаграмме, население какого возраста преобладает.



В ответе запишите номер выбранного варианта ответа.

На диаграмме показано распределение земель Уральского федерального округа по категориям. Определите по диаграмме, земли какой категории преобладают.

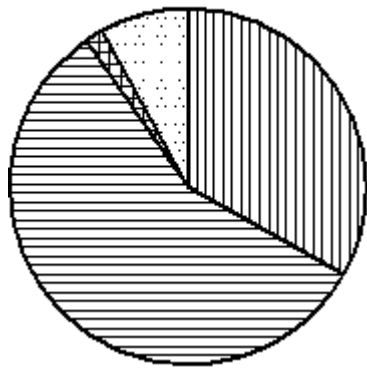


*Прочие земли — это земли поселений; земли промышленности и иного специального назначения; земли особо охраняемых территорий и объектов

- 1) Земли лесного фонда
- 2) Земли сельскохозяйственного назначения
- 3) Земли запаса
- 4) Прочие земли

В ответе запишите номер выбранного варианта ответа.

На диаграмме показано распределение земель Приволжского федерального округа по категориям. Определите по диаграмме, земли какой категории преобладают.

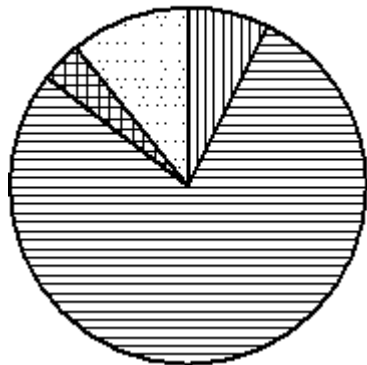
Приволжский ФО**Земли лесного фонда****Земли сельскохозяйственного назначения****Земли запаса****Прочие земли***

*Прочие земли — это земли поселений; земли промышленности и иного специального назначения; земли особо охраняемых территорий и объектов

- 1) Земли лесного фонда
- 2) Земли сельскохозяйственного назначения
- 3) Земли запаса
- 4) Прочие земли

В ответе запишите номер выбранного варианта ответа.

На диаграмме показано распределение земель Южного федерального округа по категориям. Определите по диаграмме, земли какой категории преобладают.

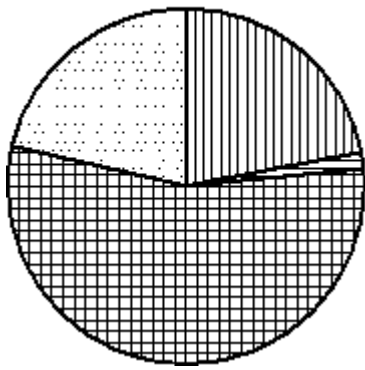
Южный ФО**Земли лесного фонда****Земли сельскохозяйственного назначения****Земли запаса****Прочие земли***

*Прочие земли — это земли поселений; земли промышленности и иного специального назначения; земли особо охраняемых территорий и объектов

- 1) Земли лесного фонда
- 2) Земли сельскохозяйственного назначения
- 3) Земли запаса
- 4) Прочие земли

В ответе запишите номер выбранного варианта ответа.

На диаграмме показано содержание питательных веществ в фасоли. Определите по диаграмме, содержание каких веществ наименьшее.

фасоль

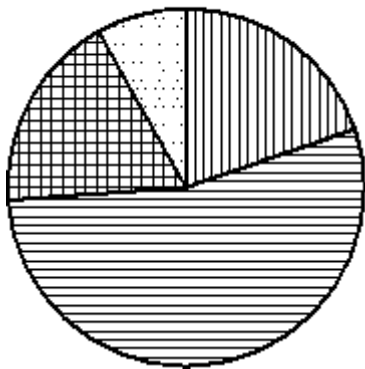
-  белки
-  жиры
-  углеводы
-  прочее*





*к прочему относятся вода, витамины и минеральные вещества

- 1) белки 2) жиры 3) углеводы

В ответе запишите номер выбранного варианта ответа.

На диаграмме показан возрастной состав населения Китая. Определите по диаграмме, какая из возрастных категорий самая малочисленная.

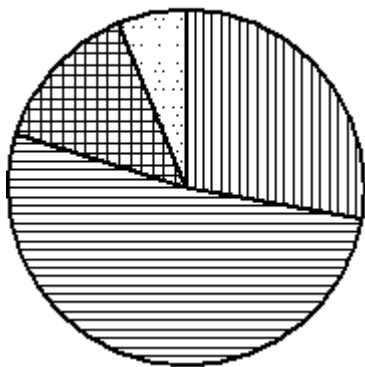
Китай





-  0–14 лет
-  15–50 лет
-  51–64 лет
-  65 лет и более

- 1) 0–14 лет 2) 15–50 лет 3) 51–64 лет

В ответе запишите номер выбранного варианта ответа.

На диаграмме показан возрастной состав населения Индонезии. Определите по диаграмме, какая из возрастных категорий самая малочисленная.

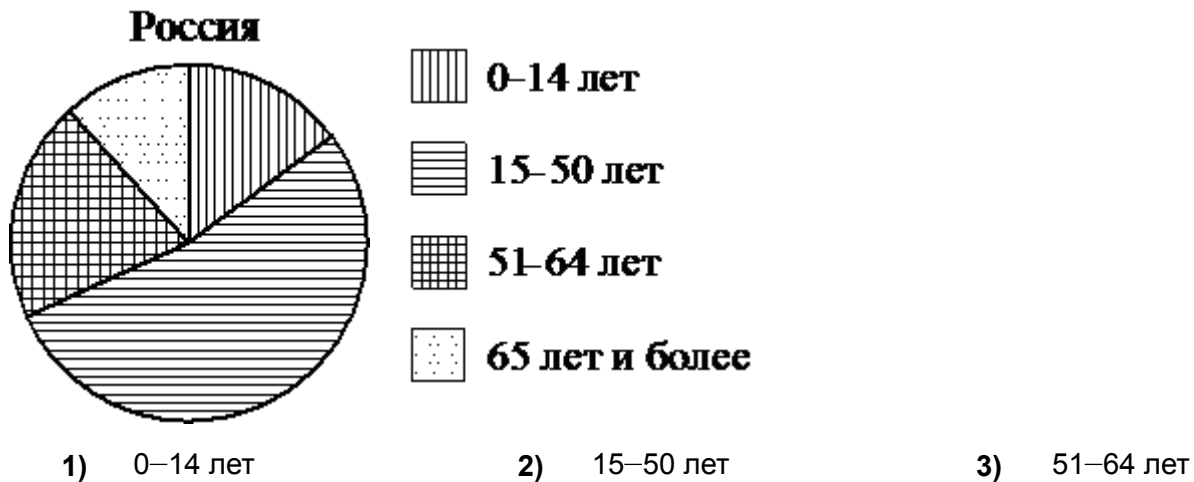
Индонезия

-  0–14 лет
-  15–50 лет
-  51–64 лет
-  65 лет и более

- 1) 0–14 лет 2) 15–50 лет 3) 51–64 лет

В ответе запишите номер выбранного варианта ответа.

На диаграмме показан возрастной состав населения России. Определите по диаграмме, какая из возрастных категорий самая малочисленная.



В ответе запишите номер выбранного варианта ответа.

На диаграмме показано содержание питательных веществ в молочном шоколаде. Определите по диаграмме, содержание каких веществ превосходит 25%.

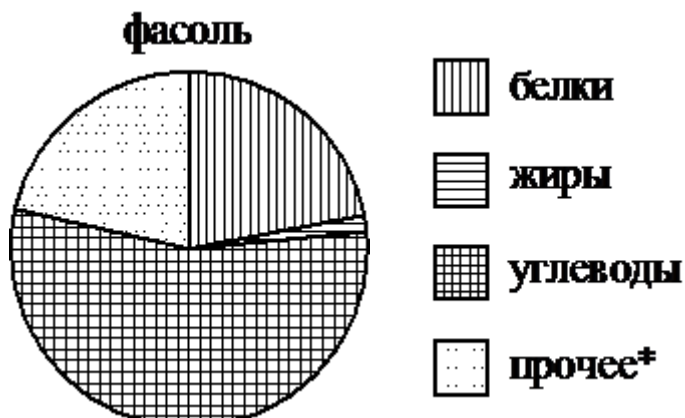


*к прочему относятся вода, витамины и минеральные вещества

- 1) белки 2) жиры 3) углеводы

В ответ запишите номера выбранных вариантов ответов без пробелов, запятых и других дополнительных символов.

На диаграмме показано содержание питательных веществ в фасоли. Определите по диаграмме, содержание каких веществ превосходит 50%.



*к прочему относятся вода, витамины и минеральные вещества

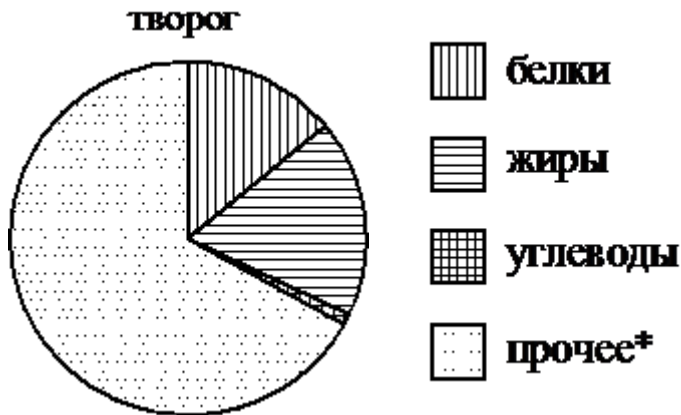
1) белки

2) жиры

3) углеводы

В ответе запишите номер выбранного варианта ответа.

На диаграмме показано содержание питательных веществ в твороге. Определите по диаграмме, содержание каких веществ превосходит 50%.



*к прочему относятся вода, витамины и минеральные вещества

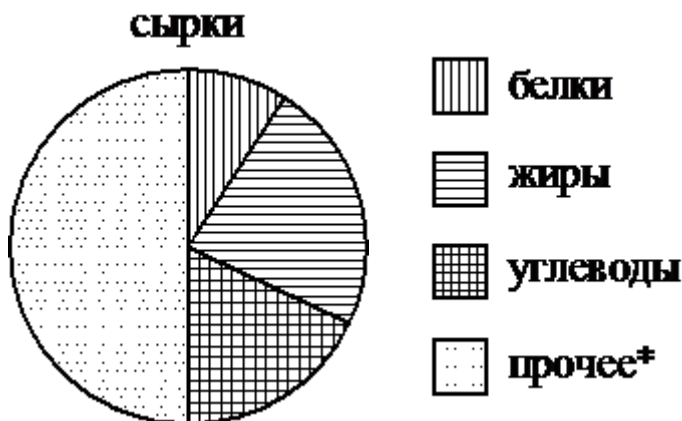
1) белки

2) жиры

3) углеводы

В ответе запишите номер выбранного варианта ответа.

На диаграмме показано содержание питательных веществ в творожных сырках. Определите по диаграмме, содержание каких веществ превосходит 30%.



*к прочему относятся вода, витамины и минеральные вещества

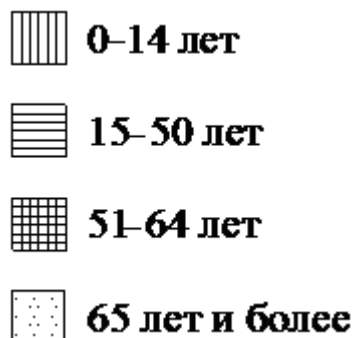
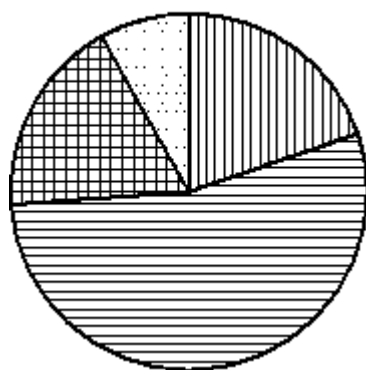
1) белки

2) жиры

3) углеводы

В ответе запишите номер выбранного варианта ответа.

На диаграмме показан возрастной состав населения Китая. Определите по диаграмме, население какого возраста составляет более 50% от всего населения.

Китай

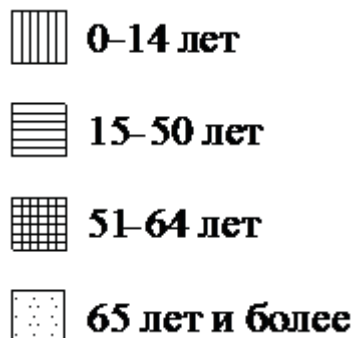
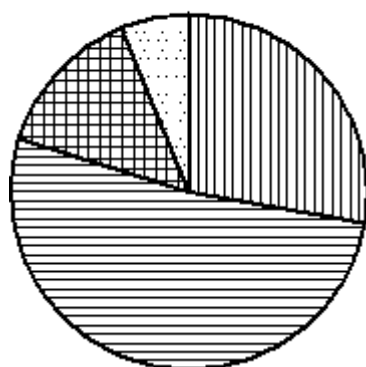
1) 0–14 лет

2) 15–50 лет

3) 51–64 лет

В ответе запишите номер выбранного варианта ответа.

На диаграмме показан возрастной состав населения Индонезии. Определите по диаграмме, доли населения каких возрастов составляют более 25% от всего населения.

Индонезия

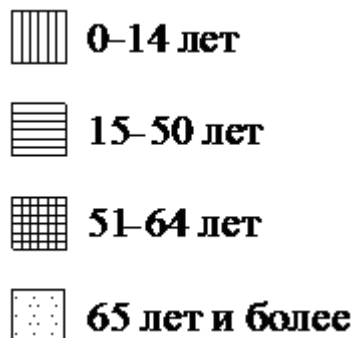
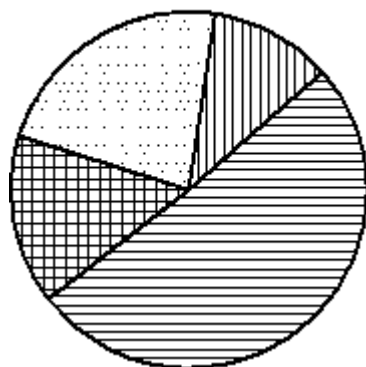
1) 0–14 лет

2) 15–50 лет

3) 51–64 лет

В ответ запишите номера выбранных вариантов ответов без пробелов, запятых и других дополнительных символов.

На диаграмме показан возрастной состав населения Японии. Определите по диаграмме, население какого возраста составляет более 40% от всего населения.

Япония

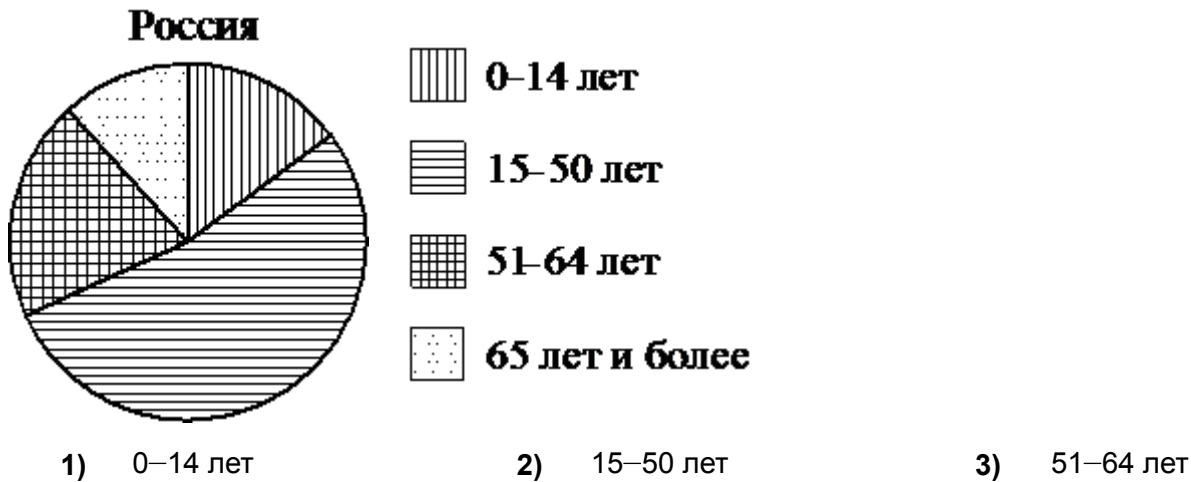
1) 0–14 лет

2) 15–50 лет

3) 51–64 лет

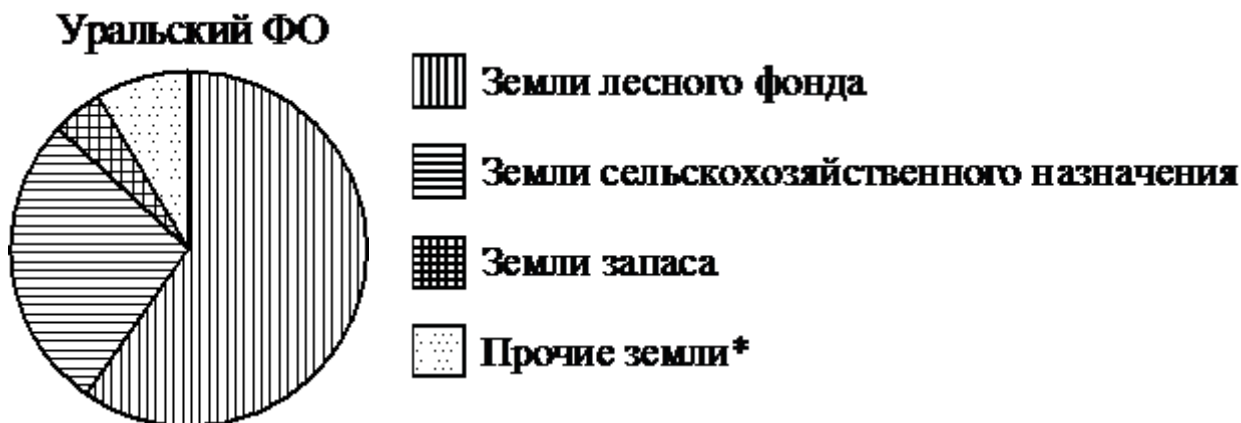
В ответе запишите номер выбранного варианта ответа.

На диаграмме показан возрастной состав населения России. Определите по диаграмме, население какого возраста составляет более 40% от всего населения.



В ответе запишите номер выбранного варианта ответа.

На диаграмме показано распределение земель Уральского федерального округа по категориям. Определите по диаграмме, земли каких категорий занимают более 25% площади округа.

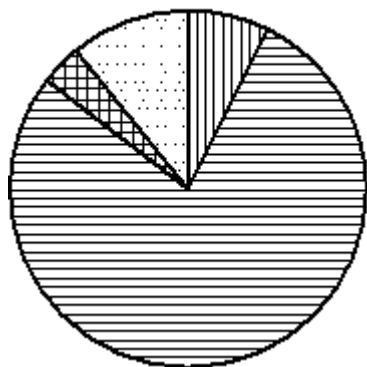






*Прочие земли — это земли поселений; земли промышленности и иного специального назначения; земли особо охраняемых территорий и объектов

- 1) Земли лесного фонда
- 2) Земли сельскохозяйственного назначения
- 3) Земли запаса
- 4) Прочие земли

В ответ запишите номера выбранных вариантов ответов без пробелов, запятых и других дополнительных символов.

На диаграмме показано распределение земель Южного федерального округа по категориям. Определите по диаграмме, земли какой категории занимают более 50% площади округа.

Южный ФО

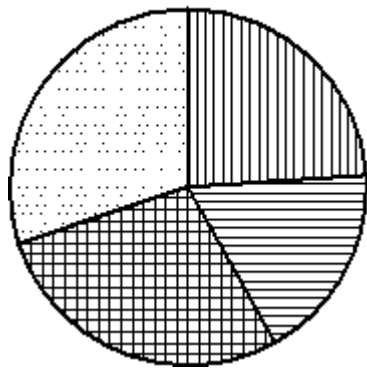
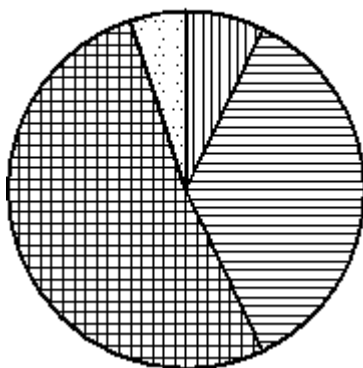
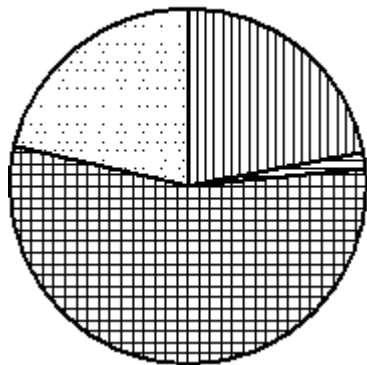
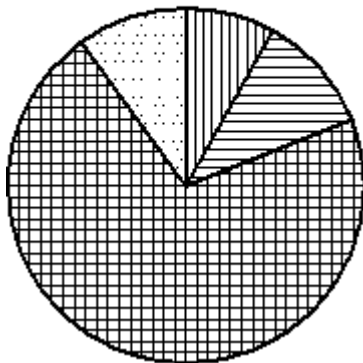
-  **Земли лесного фонда**
-  **Земли сельскохозяйственного назначения**
-  **Земли запаса**
-  **Прочие земли***

*Прочие земли — это земли поселений; земли промышленности и иного специального назначения; земли особо охраняемых территорий и объектов

- 1) Земли лесного фонда
- 2) Земли сельскохозяйственного назначения
- 3) Земли запаса
- 4) Прочие земли

В ответе запишите номер выбранного варианта ответа.

На диаграммах показано содержание питательных веществ в какао, молочном шоколаде, фасоли и сухарях. Определите по диаграммам, в каком продукте содержание углеводов наибольшее.

какао**шоколад****фасоль****сухари**

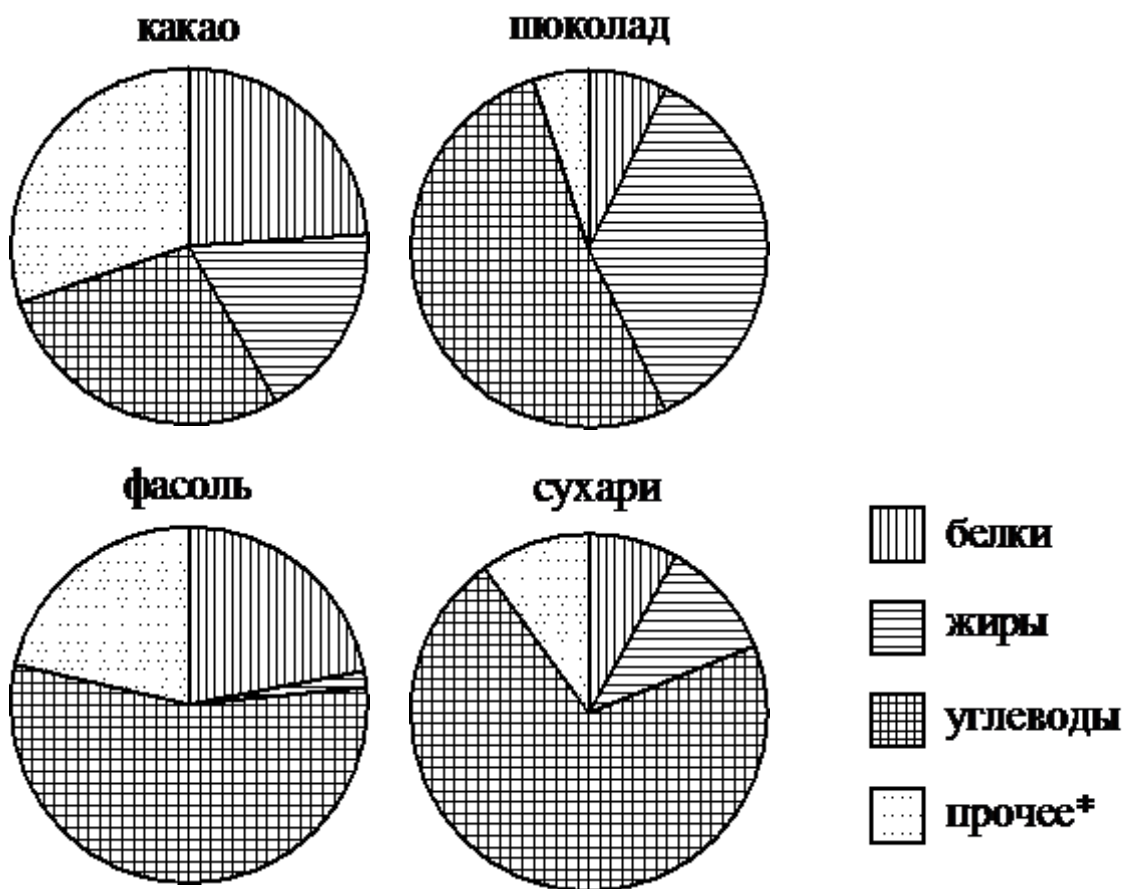
-  **белки**
-  **жиры**
-  **углеводы**
-  **прочее***

*к прочему относятся вода, витамины и минеральные вещества

- 1) какао
- 2) шоколад
- 3) фасоль

В ответе запишите номер выбранного варианта ответа.

На диаграммах показано содержание питательных веществ в какао, молочном шоколаде, фасоли и сухарях. Определите по диаграммам, в каком продукте содержание жиров наибольшее.



*к прочему относятся вода, витамины и минеральные вещества

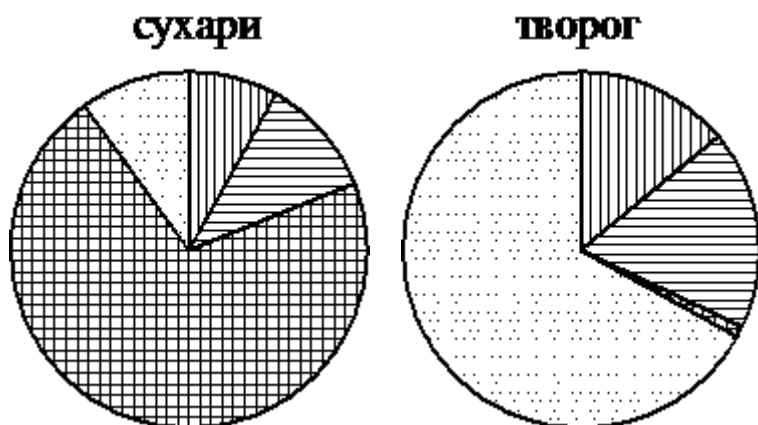
1) какао

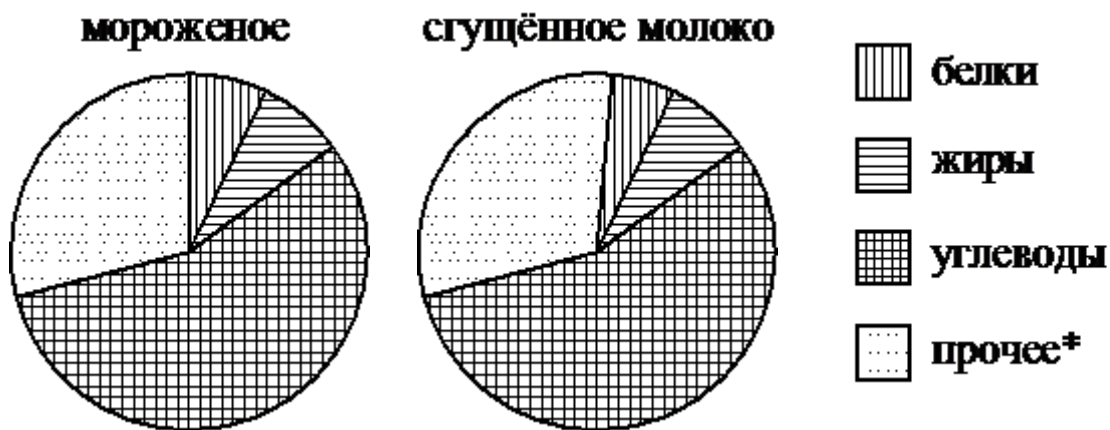
2) шоколад

3) фасоль

В ответе запишите номер выбранного варианта ответа.

На диаграммах показано содержание питательных веществ в сухарях, твороге, сливочном мороженом и сгущённом молоке. Определите по диаграммам, в каком продукте содержание углеводов наибольшее.



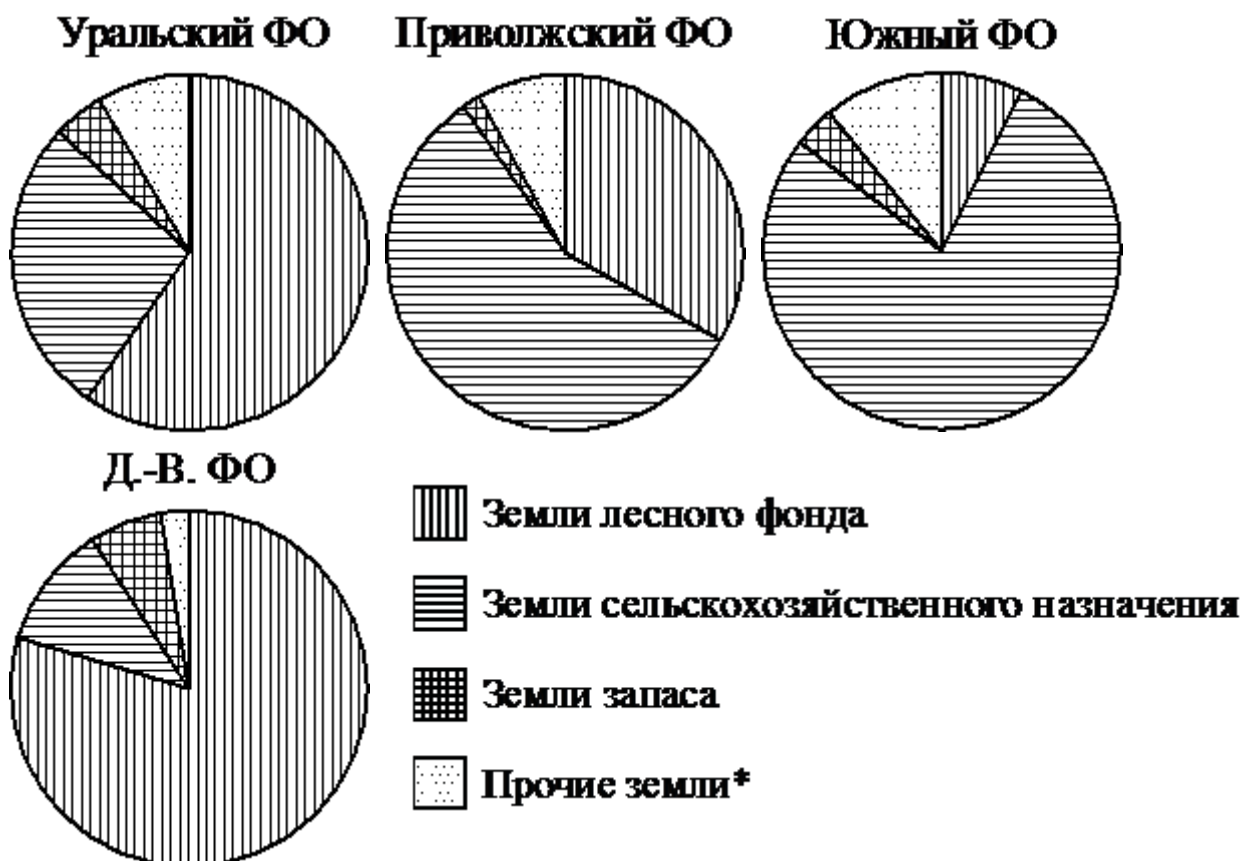


*к прочему относятся вода, витамины и минеральные вещества

- | | |
|--------------|---------------------|
| 1) сухари | 2) творог |
| 3) мороженое | 4) сгущённое молоко |

В ответе запишите номер выбранного варианта ответа.

На диаграммах показано распределение земель по категориям Уральского, Приволжского, Южного и Дальневосточного федеральных округов. Определите по диаграммам, в каком округе доля земель лесного фонда наибольшая.

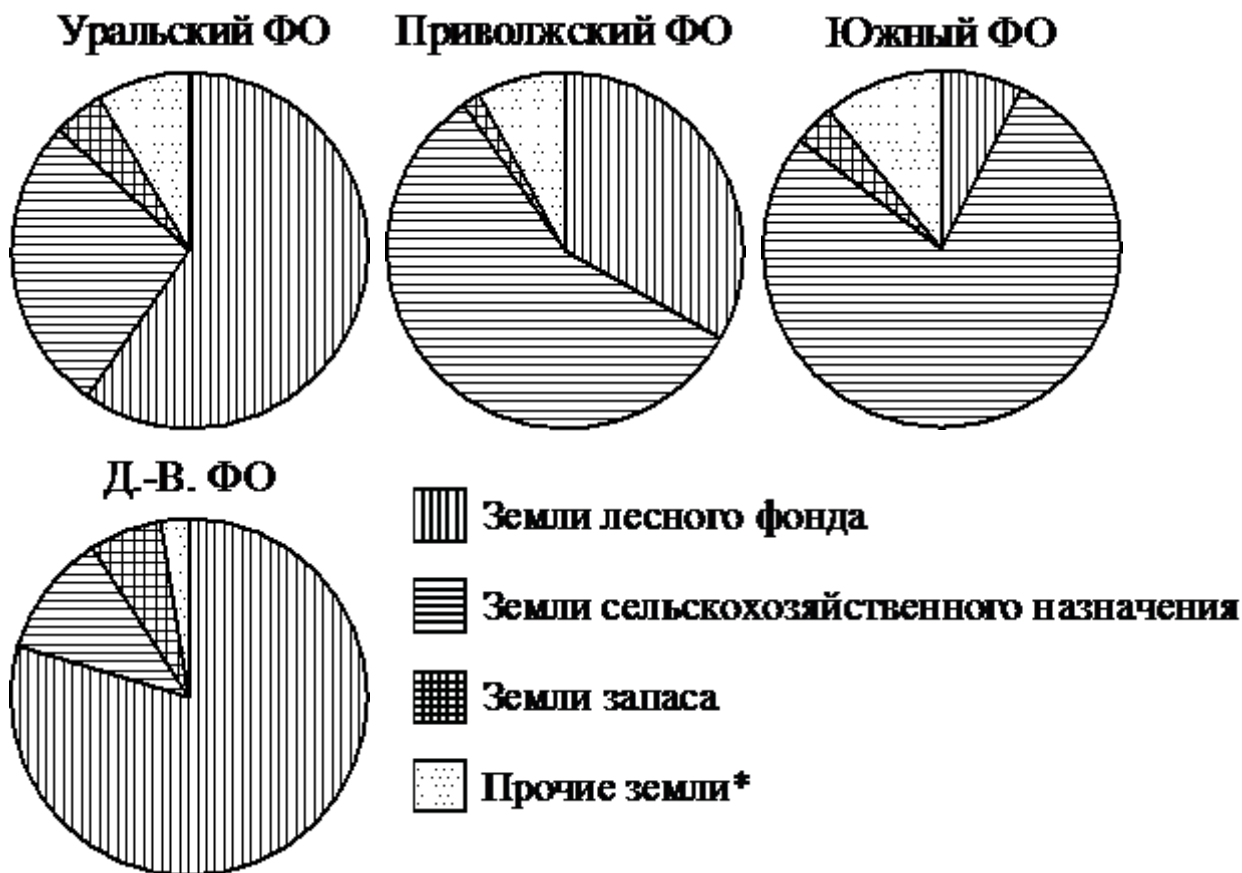


*Прочие земли — это земли поселений; земли промышленности и иного специального назначения; земли особо охраняемых территорий и объектов

- | | |
|-----------------|-----------------------|
| 1) Уральский ФО | 2) Приволжский ФО |
| 3) Южный ФО | 4) Дальневосточный ФО |

В ответе запишите номер выбранного варианта ответа.

На диаграммах показано распределение земель по категориям Уральского, Приволжского, Южного и Дальневосточного федеральных округов. Определите по диаграммам, в каком округе доля земель запаса наибольшая.

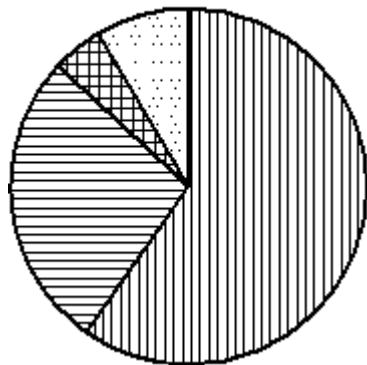
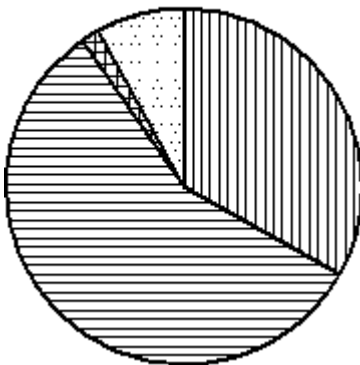
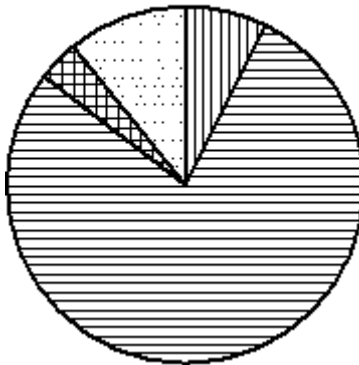
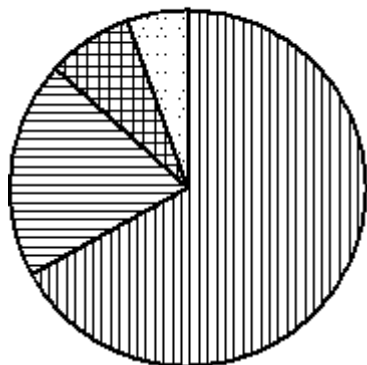


*Прочие земли — это земли поселений; земли промышленности и иного специального назначения; земли особо охраняемых территорий и объектов

- 1) Уральский ФО
- 2) Приволжский ФО
- 3) Южный ФО
- 4) Дальневосточный ФО

В ответе запишите номер выбранного варианта ответа.

На диаграммах показано распределение земель по категориям Уральского, Приволжского, Южного и Сибирского федеральных округов. Определите по диаграммам, в каком округе доля земель запаса наибольшая.

Уральский ФО**Приволжский ФО****Южный ФО****Сибирский ФО****Земли лесного фонда****Земли сельскохозяйственного назначения****Земли запаса****Прочие земли***

*Прочие земли — это земли поселений; земли промышленности и иного специального назначения; земли особо охраняемых территорий и объектов

1) Уральский ФО

2) Приволжский ФО

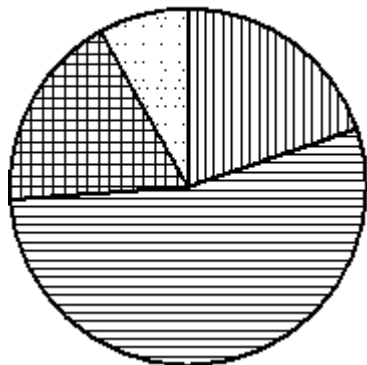
3) Южный ФО

4) Сибирский ФО

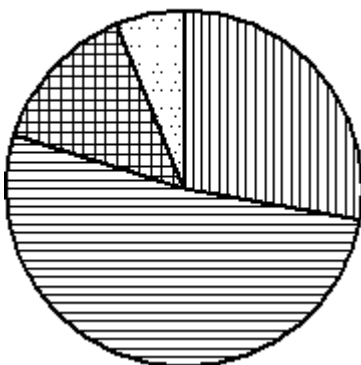
В ответе запишите номер выбранного варианта ответа.

На диаграммах показаны возрастные составы населения Китая, Индонезии, Японии и России. Определите по диаграммам, в какой из стран доля населения 0–14 лет наибольшая.

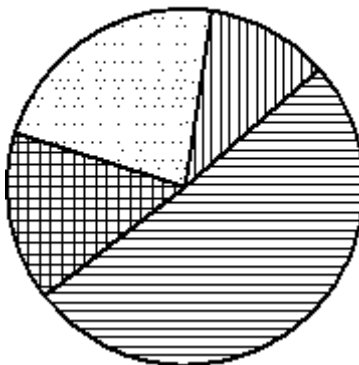
Китай



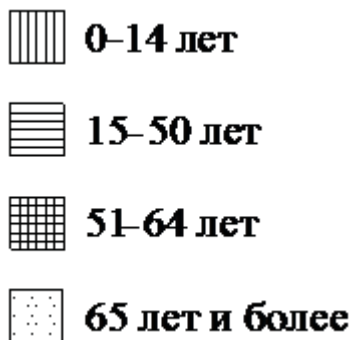
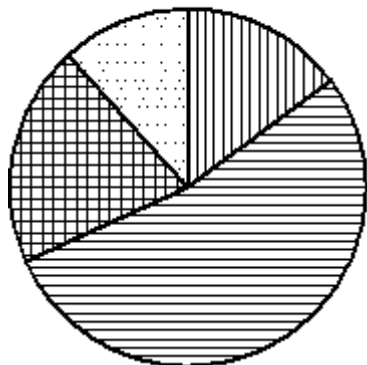
Индонезия



Япония



Россия



1) Китай

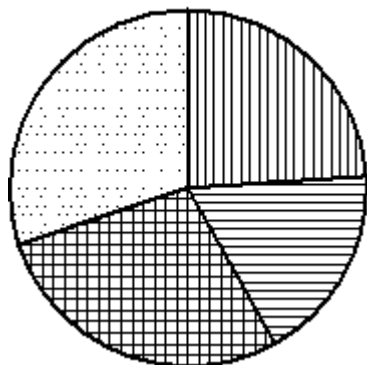
2) Индонезия

3) Япония

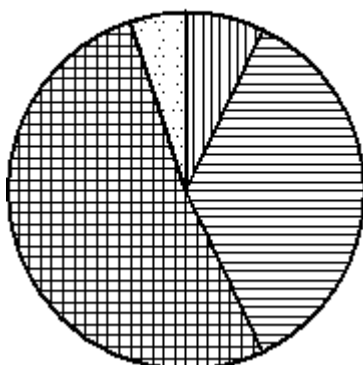
В ответе запишите номер выбранного варианта ответа.

На диаграммах показано содержание питательных веществ в какао, молочном шоколаде, фасоли и сухарях. Определите по диаграммам, в каком продукте содержание углеводов наименьшее.

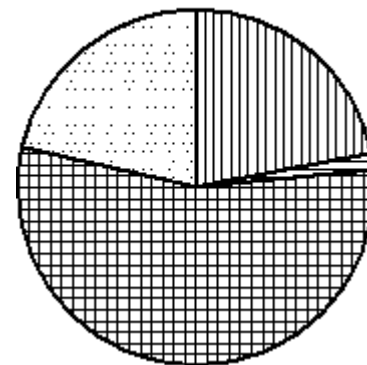
какао



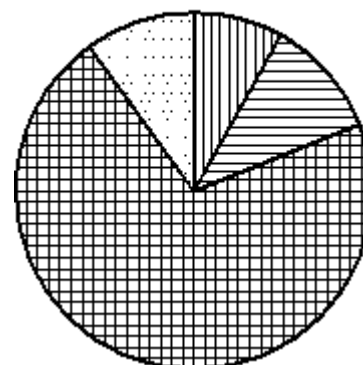
шоколад



фасоль



сухари



*к прочему относятся вода, витамины и минеральные вещества

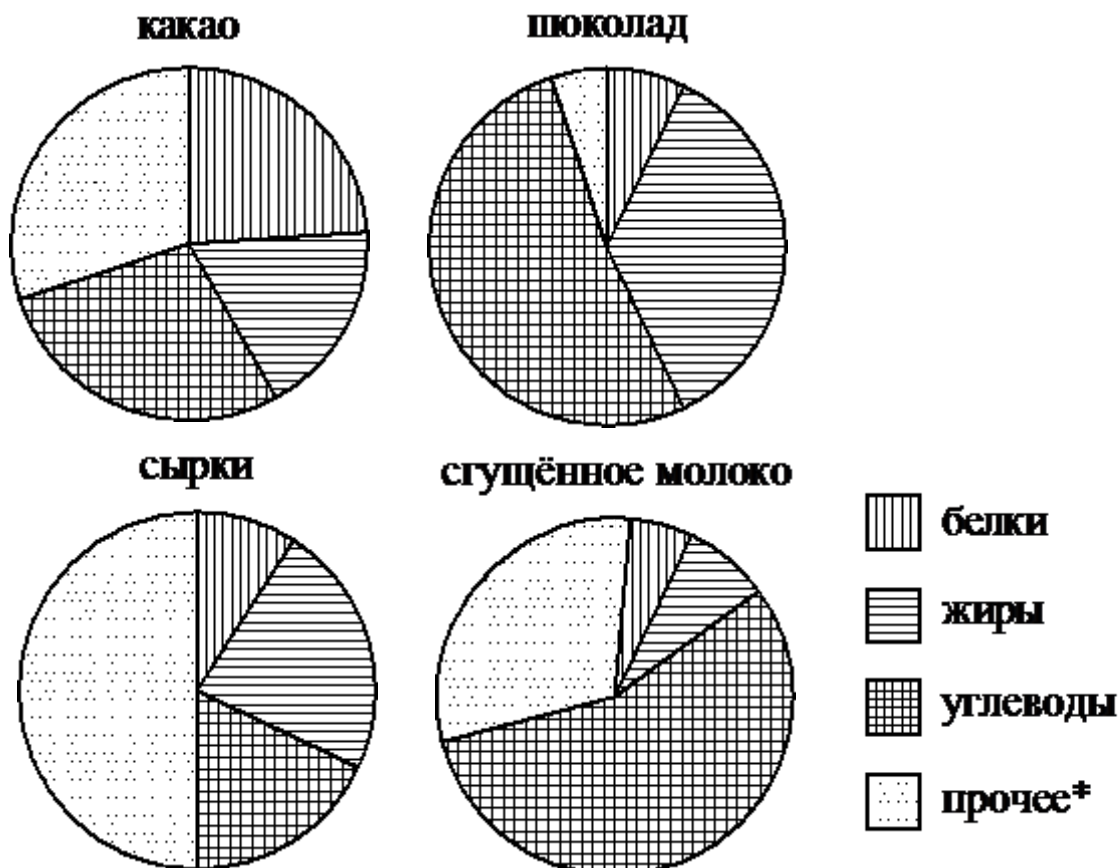
1) какао

2) шоколад

3) фасоль

В ответе запишите номер выбранного варианта ответа.

На диаграммах показано содержание питательных веществ в какао, молочном шоколаде, творожных сырах и сгущённом молоке. Определите по диаграммам, в каком продукте содержание жиров наименьшее.



*к прочему относятся вода, витамины и минеральные вещества

1) какао

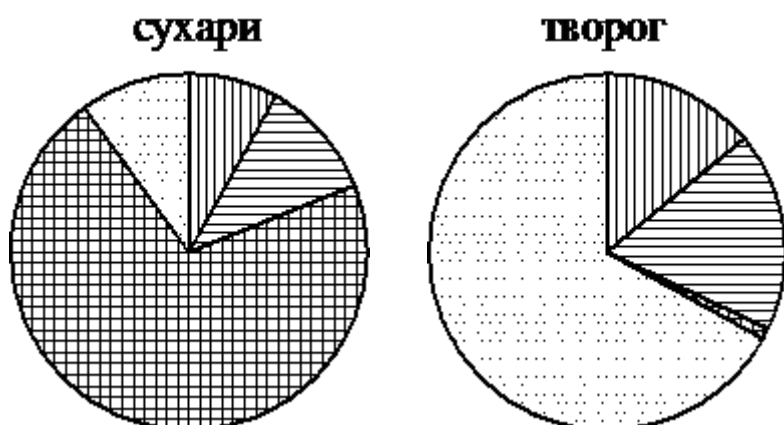
2) шоколад

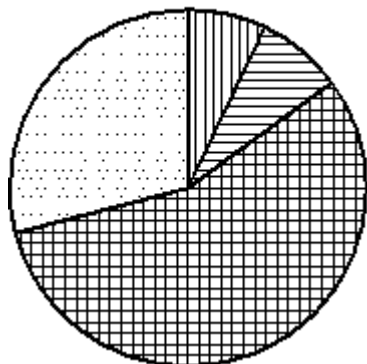
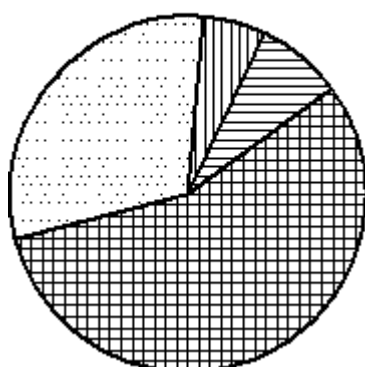
3) сырки

4) сгущённое молоко

В ответе запишите номер выбранного варианта ответа.

На диаграммах показано содержание питательных веществ в сухарях, твороге, сливочном мороженом и сгущённом молоке. Определите по диаграммам, в каком продукте содержание белков наименьшее.



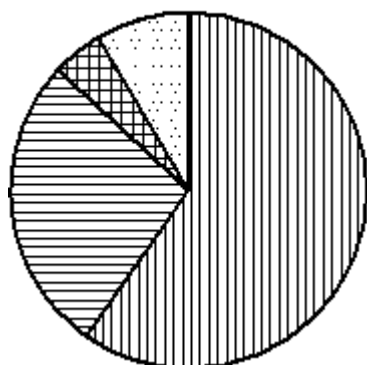
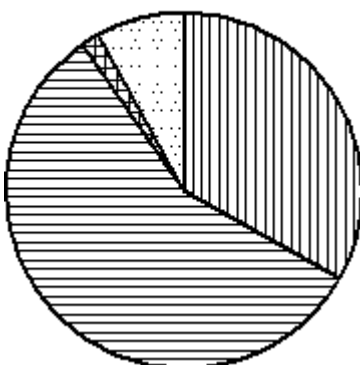
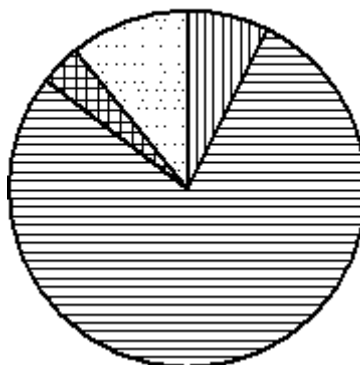
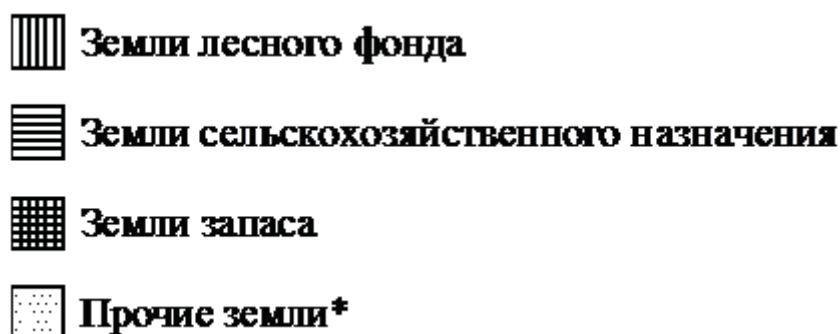
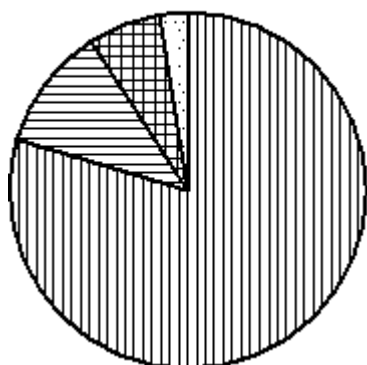
мороженое**сгущённое молоко**

*к прочему относятся вода, витамины и минеральные вещества

- | | |
|--------------|---------------------|
| 1) сухари | 2) творог |
| 3) мороженое | 4) сгущённое молоко |

В ответе запишите номер выбранного варианта ответа.

На диаграммах показано распределение земель по категориям Уральского, Приволжского, Южного и Дальневосточного федеральных округов. Определите по диаграммам, в каком округе доля земель сельскохозяйственного назначения наименьшая.

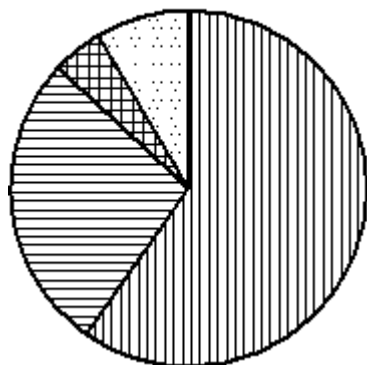
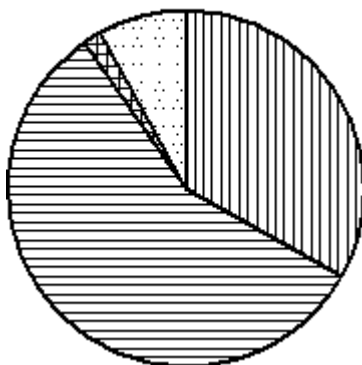
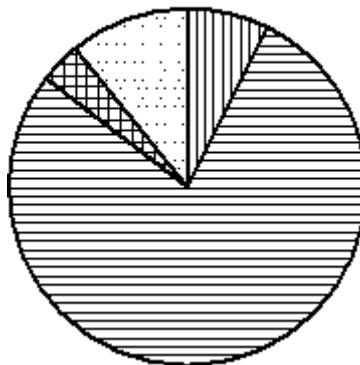
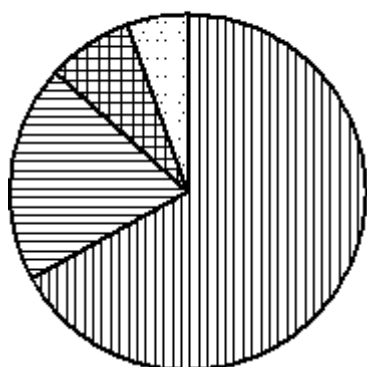
Уральский ФО**Приволжский ФО****Южный ФО****Д-В. ФО**

*Прочие земли — это земли поселений; земли промышленности и иного специального назначения; земли особо охраняемых территорий и объектов

- | | |
|-----------------|-----------------------|
| 1) Уральский ФО | 2) Приволжский ФО |
| 3) Южный ФО | 4) Дальневосточный ФО |

В ответе запишите номер выбранного варианта ответа.

На диаграммах показано распределение земель по категориям Уральского, Приволжского, Южного и Сибирского федеральных округов. Определите по диаграммам, в каком округе доля земель лесного фонда наименьшая.

Уральский ФО**Приволжский ФО****Южный ФО****Сибирский ФО****Земли лесного фонда****Земли сельскохозяйственного назначения****Земли запаса****Прочие земли***

*Прочие земли — это земли поселений; земли промышленности и иного специального назначения; земли особо охраняемых территорий и объектов

1) Уральский ФО

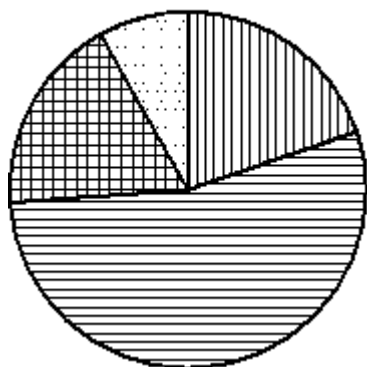
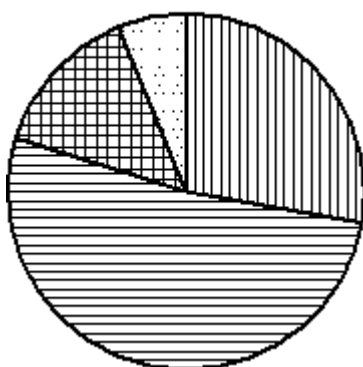
2) Приволжский ФО

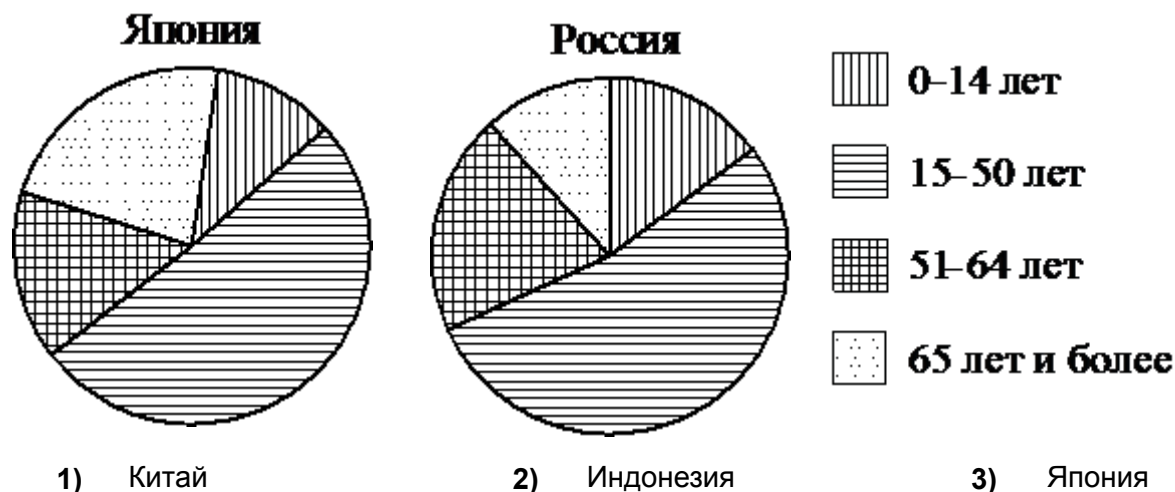
3) Южный ФО

4) Сибирский ФО

В ответе запишите номер выбранного варианта ответа.

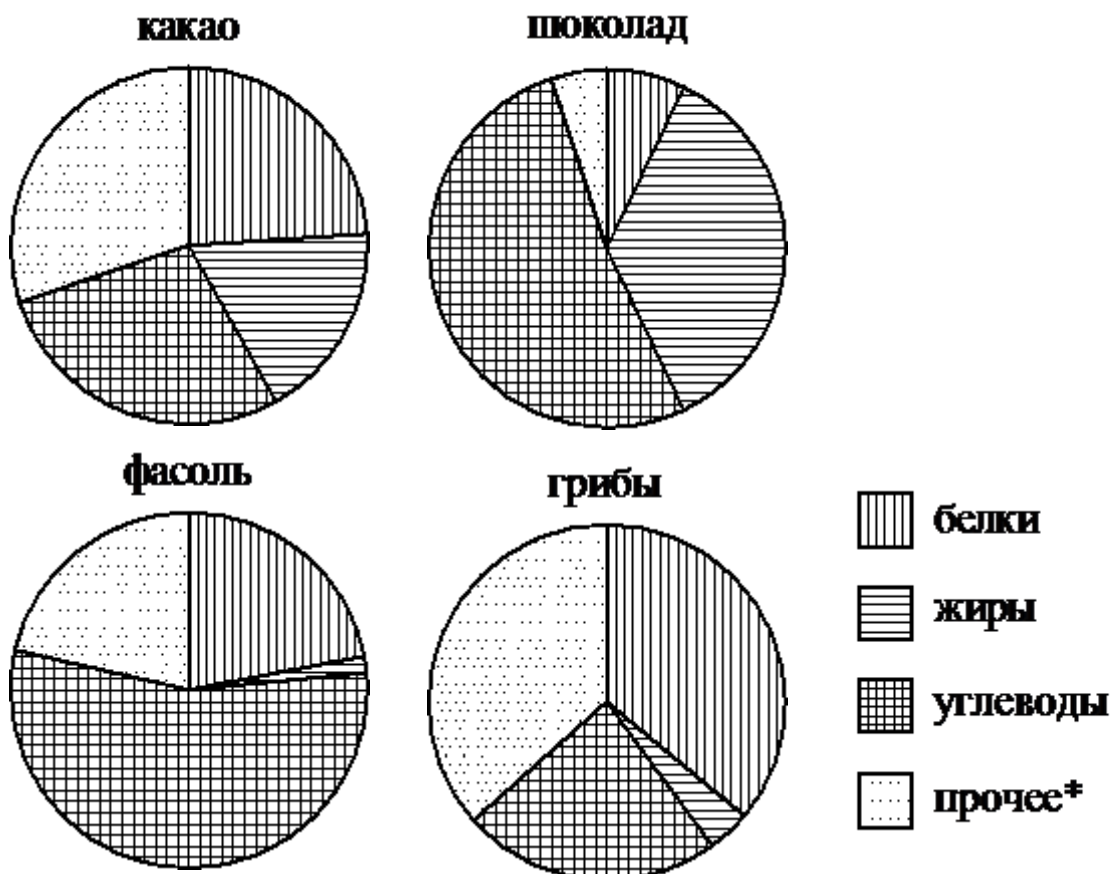
На диаграммах показаны возрастные составы населения Китая, Индонезии, Японии и России. Определите по диаграммам, в какой из стран доля населения 15–50 лет наименьшая.

Китай**Индонезия**



В ответе запишите номер выбранного варианта ответа.

На диаграммах показано содержание питательных веществ в какао, молочном шоколаде, фасоли и сушёных белых грибах. Определите по диаграммам, в каких продуктах содержание углеводов превышает 50%.

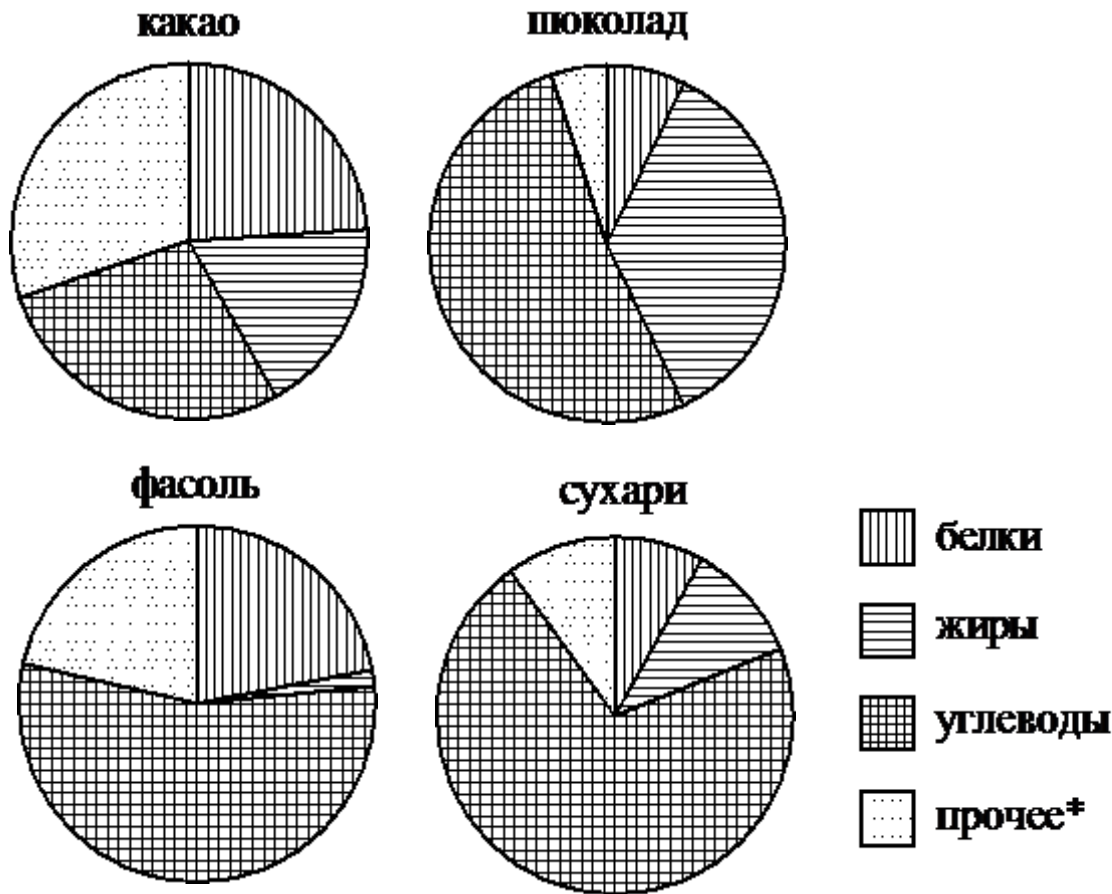


*к прочему относятся вода, витамины и минеральные вещества

- 1) какао 2) шоколад 3) фасоль

В ответ запишите номера выбранных вариантов ответов без пробелов, запятых и других дополнительных символов.

На диаграммах показано содержание питательных веществ в какао, молочном шоколаде, фасоли и сухарях. Определите по диаграммам, в каких продуктах суммарное содержание углеводов и жиров превышает 75%.

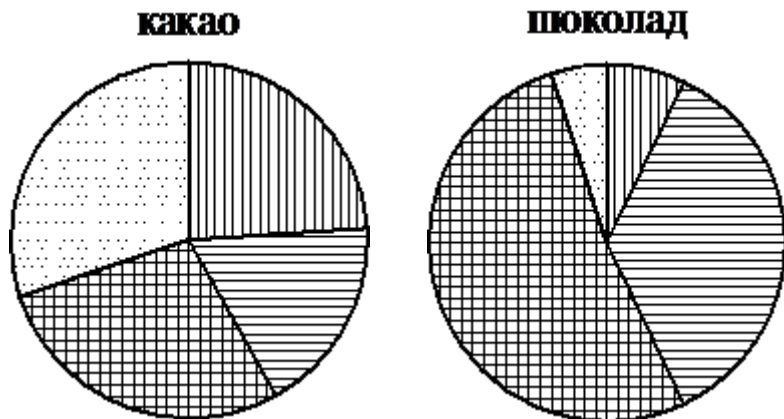


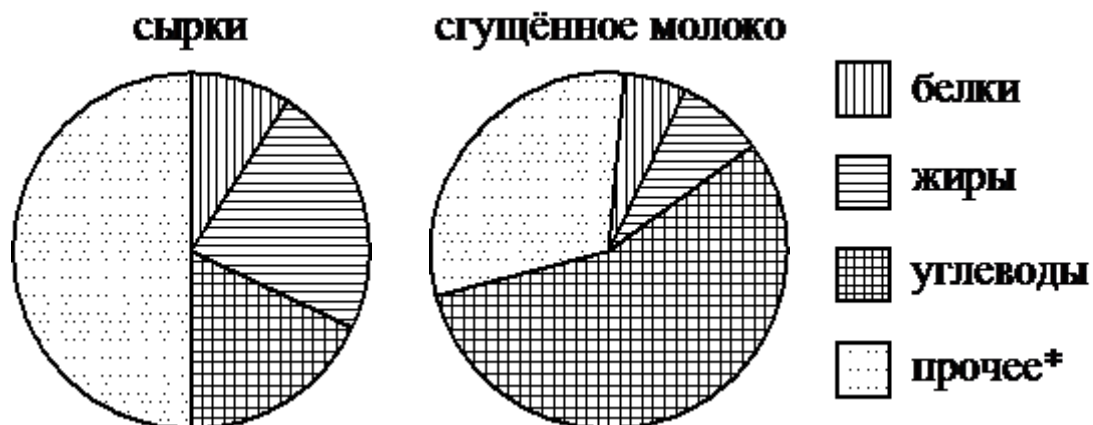
*к прочему относятся вода, витамины и минеральные вещества

- 1) какао 2) шоколад 3) фасоль

В ответ запишите номера выбранных вариантов ответов без пробелов, запятых и других дополнительных символов.

На диаграммах показано содержание питательных веществ в какао, молочном шоколаде, творожных сырках и сгущённом молоке. Определите по диаграммам, в каком продукте содержание белков превышает 20%.



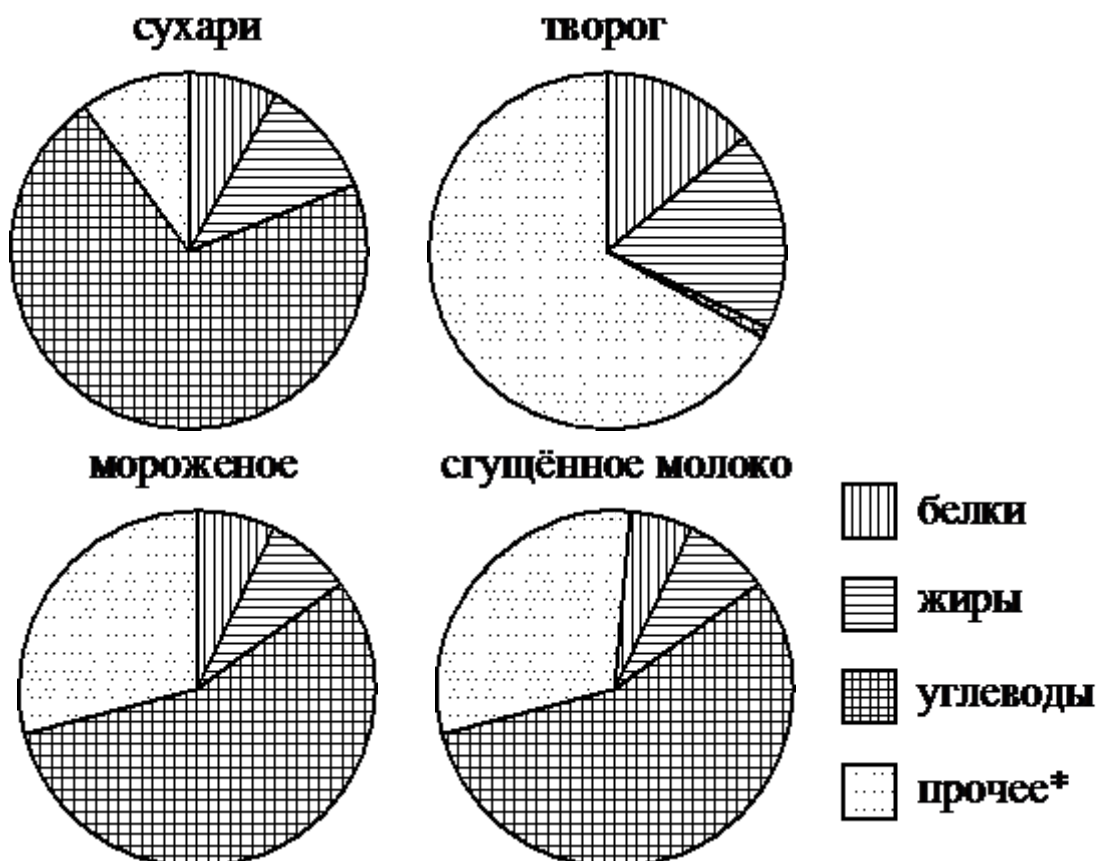


*к прочему относятся вода, витамины и минеральные вещества

- | | |
|----------|---------------------|
| 1) какао | 2) шоколад |
| 3) сырки | 4) сгущённое молоко |

В ответе запишите номер выбранного варианта ответа.

На диаграммах показано содержание питательных веществ в сухарях, твороге, сливочном мороженом и сгущённом молоке. Определите по диаграммам, в каком продукте содержание белков превышает 10%.

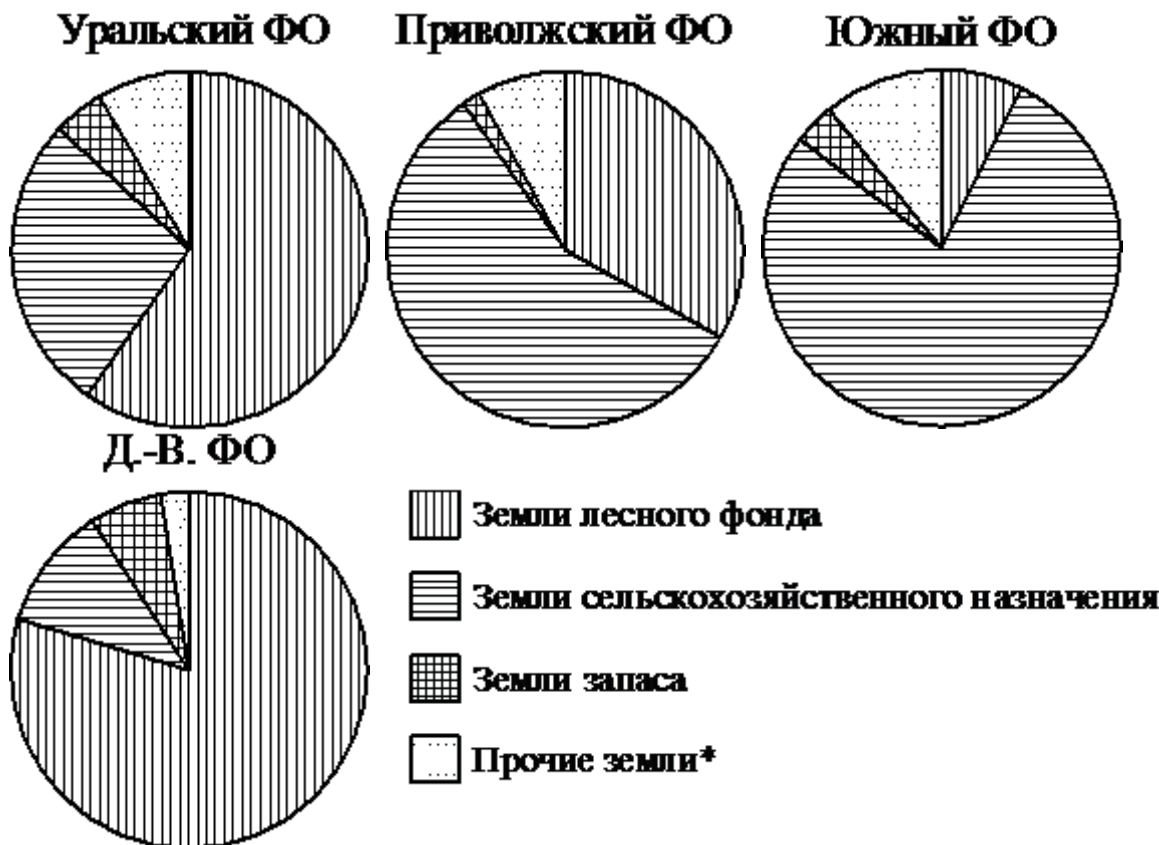


*к прочему относятся вода, витамины и минеральные вещества

- | | |
|--------------|---------------------|
| 1) сухари | 2) творог |
| 3) мороженое | 4) сгущённое молоко |

В ответе запишите номер выбранного варианта ответа.

На диаграммах показано распределение земель по категориям Уральского, Приволжского, Южного и Дальневосточного федеральных округов. Определите по диаграммам, в каких округах доля земель лесного фонда превышает 50%.

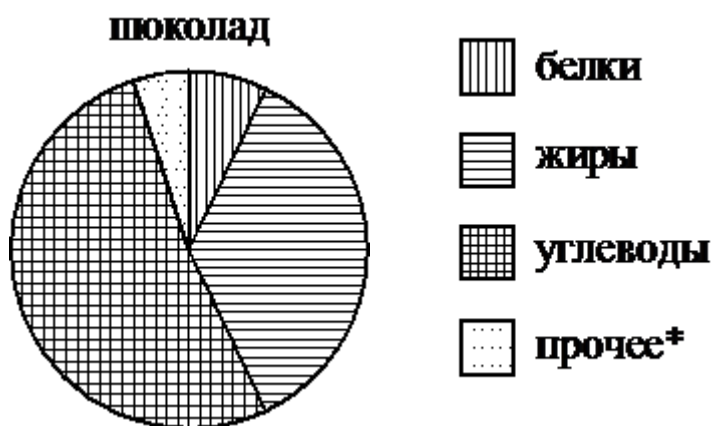


*Прочие земли — это земли поселений; земли промышленности и иного специального назначения; земли особо охраняемых территорий и объектов

- | | |
|-----------------|-----------------------|
| 1) Уральский ФО | 2) Приволжский ФО |
| 3) Южный ФО | 4) Дальневосточный ФО |

В ответ запишите номера выбранных вариантов ответов без пробелов, запятых и других дополнительных символов.

На диаграмме показано содержание питательных веществ в молочном шоколаде. Определите по диаграмме, в каких пределах находится содержание углеводов.



*к прочему относятся вода, витамины и минеральные вещества

- | | | |
|----------|-----------|-----------|
| 1) 5–15% | 2) 15–25% | 3) 45–55% |
|----------|-----------|-----------|

В ответе запишите номер выбранного варианта ответа.

На диаграмме показано содержание питательных веществ в фасоли. Определите по диаграмме, в каких пределах находится содержание белков.



*к прочему относятся вода, витамины и минеральные вещества

- 1) 5–15% 2) 15–25% 3) 25–35%

В ответе запишите номер выбранного варианта ответа.

На диаграмме показано содержание питательных веществ в сухарях. Определите по диаграмме, в каких пределах находится содержание углеводов.

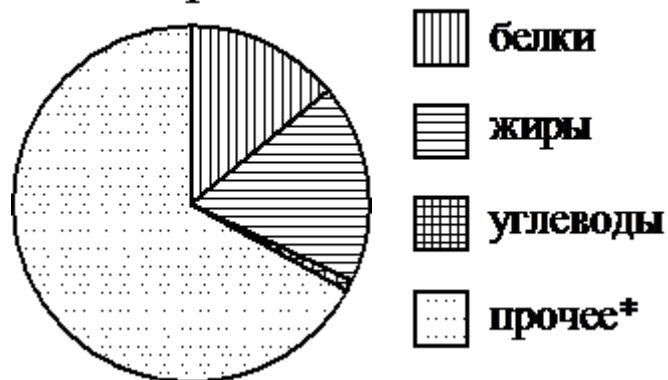


*к прочему относятся вода, витамины и минеральные вещества

- 1) 45–55% 2) 55–65% 3) 65–75%

В ответе запишите номер выбранного варианта ответа.

На диаграмме показано содержание питательных веществ в твороге. Определите по диаграмме, в каких пределах находится содержание жиров.

творог

*к прочему относятся вода, витамины и минеральные вещества

- 1) 5–15% 2) 15–25% 3) 25–35%

В ответе запишите номер выбранного варианта ответа.

На диаграмме показано содержание питательных веществ в молочном шоколаде. Определите по диаграмме, в каких пределах находится содержание жиров.

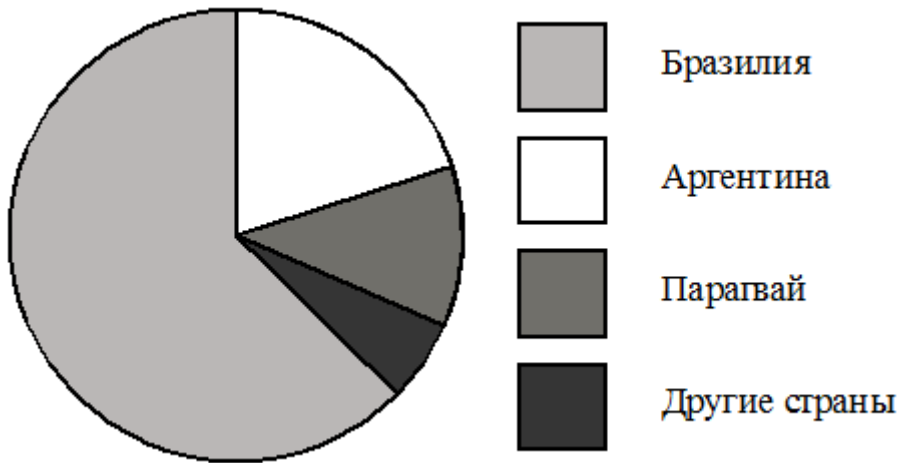
шоколад

*к прочему относятся вода, витамины и минеральные вещества

- 1) 5–15% 2) 15–25% 3) 30–40%

В ответе запишите номер выбранного варианта ответа.

На диаграмме представлено распределение количества пользователей некоторой социальной сети по странам мира. Всего в этой социальной сети 9 миллионов пользователей.

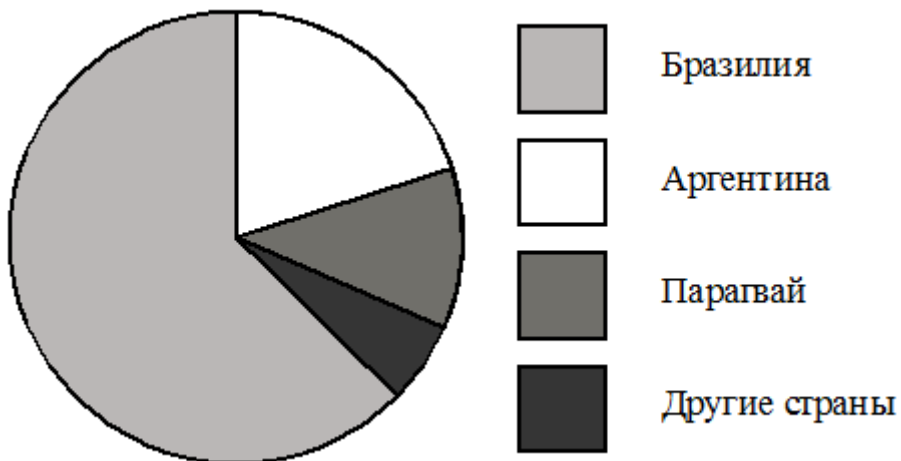


Какие из следующих утверждений **неверны**?

- 1) Пользователей из Бразилии больше, чем пользователей из Аргентины.
- 2) Больше трети пользователей сети — из Аргентины.
- 3) Пользователей из Парагвая больше, чем пользователей из Аргентины.
- 4) Пользователей из Бразилии больше 4 миллионов.

В ответ запишите номера выбранных утверждений без пробелов, запятых и других дополнительных символов.

На диаграмме представлено распределение количества пользователей некоторой социальной сети по странам мира. Всего в этой социальной сети 9 миллионов пользователей.

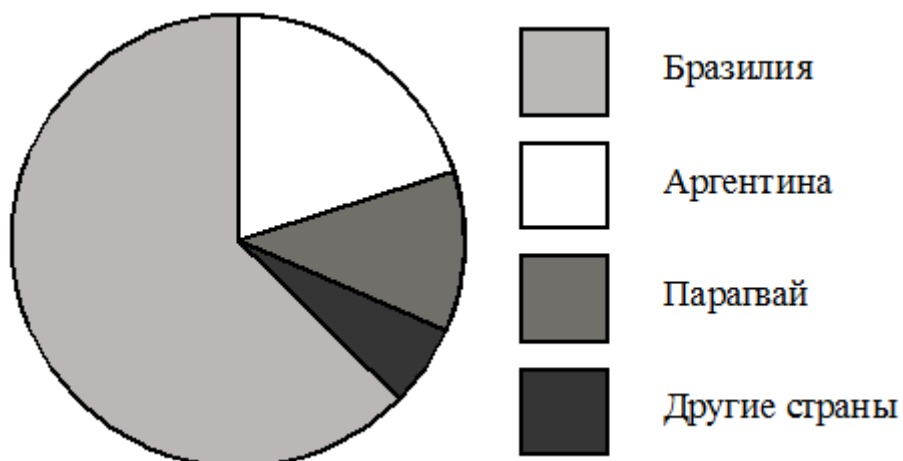


Какие из следующих утверждений **неверны**?

- 1) Пользователей из Парагвая больше, чем пользователей из Бразилии.
- 2) Пользователей из Аргентины меньше трети общего числа пользователей.
- 3) Пользователей из Парагвая больше, чем пользователей из Дании.
- 4) Пользователей из Бразилии меньше 4 миллионов.

В ответ запишите номера выбранных утверждений без пробелов, запятых и других дополнительных символов.

На диаграмме представлено распределение количества пользователей некоторой социальной сети по странам мира. Всего в этой социальной сети 9 миллионов пользователей.

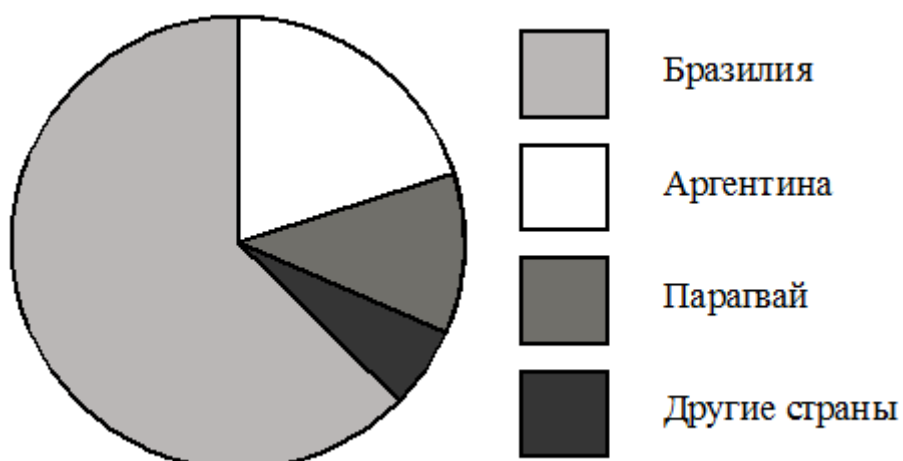


Какие из следующих утверждений **неверны**?

- 1) Пользователей из Парагвая меньше, чем пользователей из Аргентины.
- 2) Пользователей из Аргентины больше четверти общего числа пользователей.
- 3) Пользователей из Парагвая больше, чем пользователей из Финляндии.
- 4) Пользователей из Бразилии меньше 4 миллионов.

В ответ запишите номера выбранных утверждений без пробелов, запятых и других дополнительных символов.

На диаграмме представлено распределение количества пользователей некоторой социальной сети по странам мира. Всего в этой социальной сети 9 миллионов пользователей.

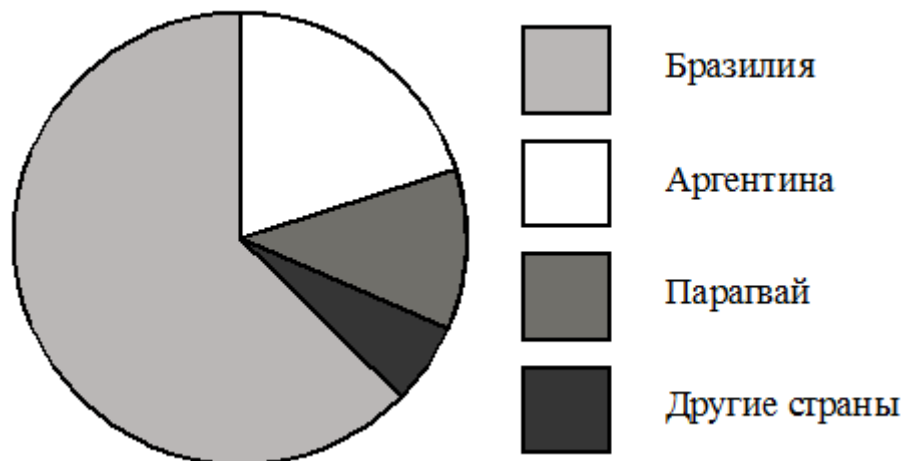


Какие из следующих утверждений **неверны**?

- 1) Пользователей из Аргентины больше, чем пользователей из Парагвая.
- 2) Пользователей из Аргентины больше четверти общего числа пользователей.
- 3) Пользователей из Парагвая больше, чем пользователей из Эстонии.
- 4) Пользователей из Бразилии больше 8 миллионов.

В ответ запишите номера выбранных утверждений без пробелов, запятых и других дополнительных символов.

На диаграмме представлено распределение количества пользователей некоторой социальной сети по странам мира. Всего в этой социальной сети 12 миллионов пользователей.

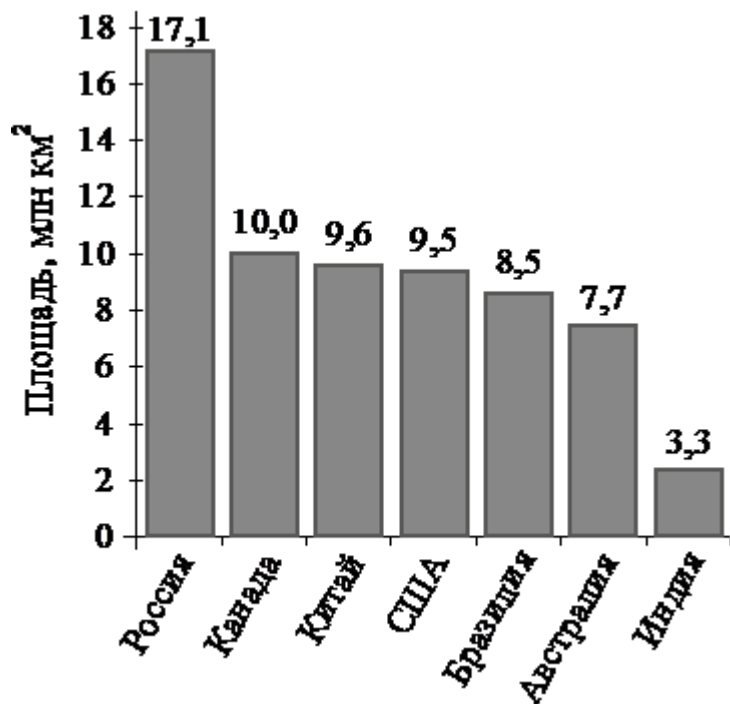


Какие из следующих утверждений **неверны**?

- 1) Пользователей из Аргентины больше, чем пользователей из Латвии.
- 2) Пользователей из Бразилии больше, чем пользователей из Аргентины и Парагвая вместе.
- 3) Пользователей из Аргентины больше 3 миллионов.
- 4) Примерно три четверти общего числа пользователей — из Бразилии.

В ответ запишите номера выбранных утверждений без пробелов, запятых и других дополнительных символов.

На диаграмме представлены семь крупнейших по площади территории (в млн км²) стран мира.

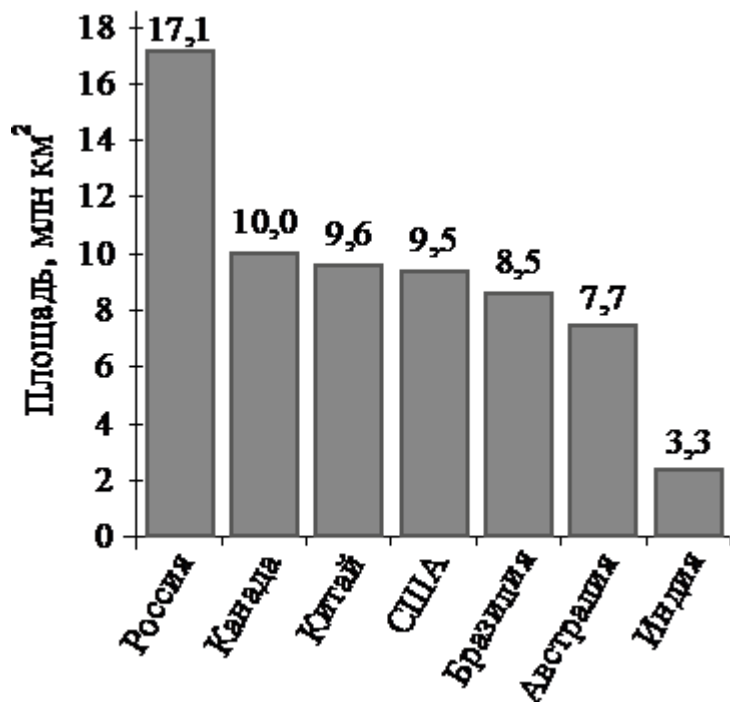


Какие из следующих утверждений **неверны**?

- 1) Канада — крупнейшая по площади территории страна мира.
- 2) Площадь территории Индии составляет 3,3 млн км².
- 3) Площадь территории Китая больше площади территории Австралии.
- 4) Площадь территории Канады больше площади территории США на 1,5 млн км².

В ответ запишите номера выбранных утверждений без пробелов, запятых и других дополнительных символов.

На диаграмме представлены семь крупнейших по площади территории (в млн км²) стран мира.

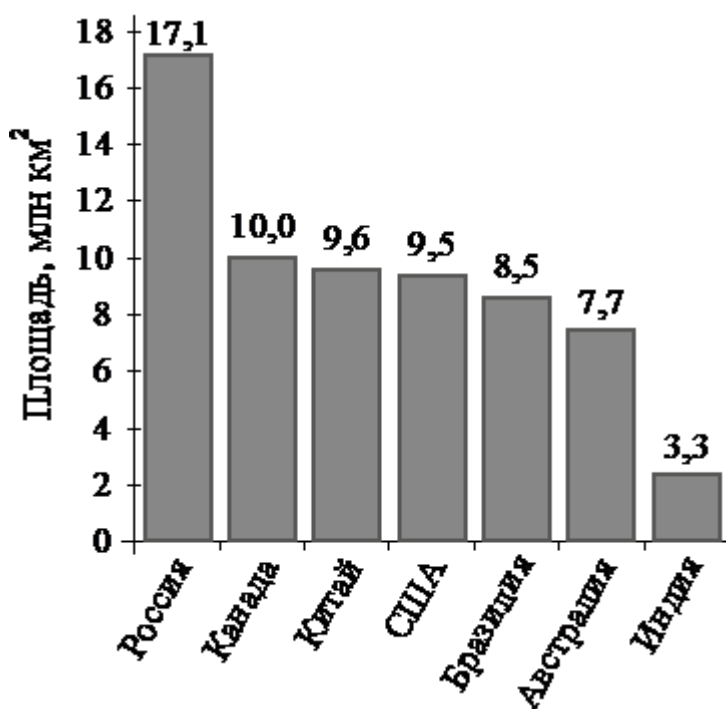


Какие из следующих утверждений **неверны**?

- 1) По площади территории второе место в мире занимает Китай.
- 2) Площадь территории Австралии составляет 7,7 млн км².
- 3) Площадь территории Китая больше площади территории Канады.
- 4) Площадь территории США больше площади территории Бразилии на 1 млн км².

В ответ запишите номера выбранных утверждений без пробелов, запятых и других дополнительных символов.

На диаграмме представлены семь крупнейших по площади территории (в млн км²) стран мира.

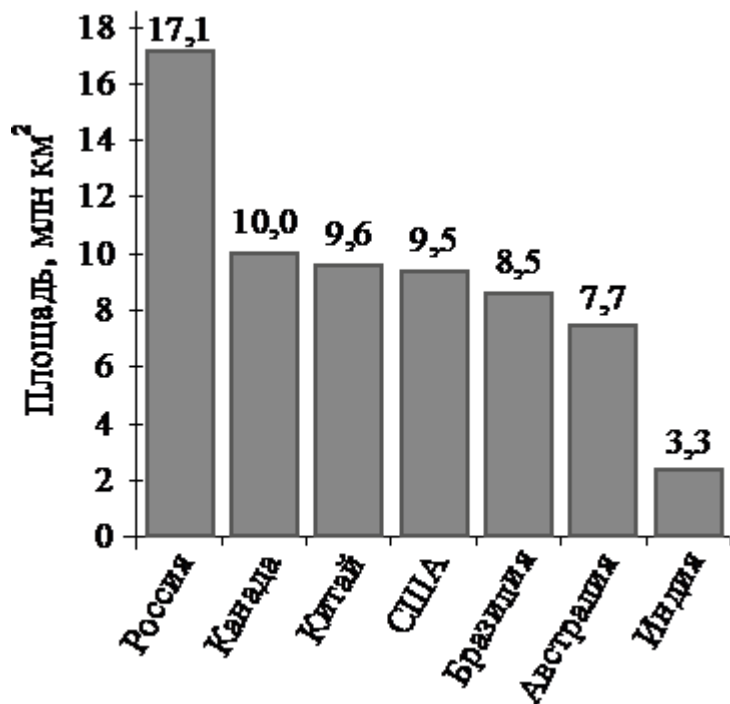


Какие из следующих утверждений **неверны**?

- 1) По площади территории Австралия занимает шестое место в мире.
- 2) Площадь территории Бразилии составляет 7,7 млн км².
- 3) Площадь территории Индии меньше площади территории Китая.
- 4) Площадь территории Канады меньше площади территории России на 7,5 млн км².

В ответ запишите номера выбранных утверждений без пробелов, запятых и других дополнительных символов.

На диаграмме представлены семь крупнейших по площади территории (в млн км²) стран мира.

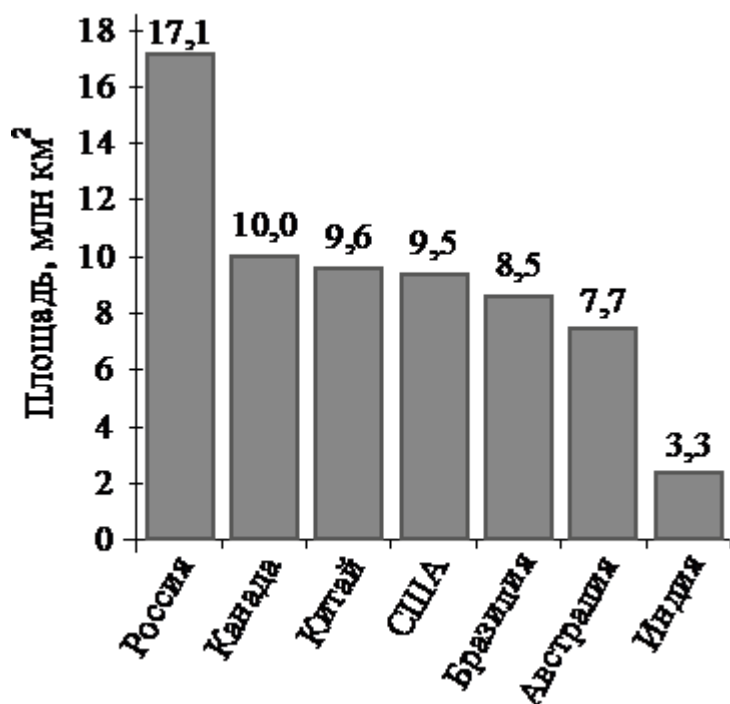


Какие из следующих утверждений **неверны**?

- 1) По площади территории Китай занимает второе место в мире.
- 2) Площадь территории США составляет 9,5 млн км².
- 3) Площадь территории США меньше площади территории Китая на 7,6 млн км².
- 4) Площадь территории Австралии меньше площади территории России.

В ответ запишите номера выбранных утверждений без пробелов, запятых и других дополнительных символов.

На диаграмме представлены семь крупнейших по площади территории (в млн км²) стран мира.

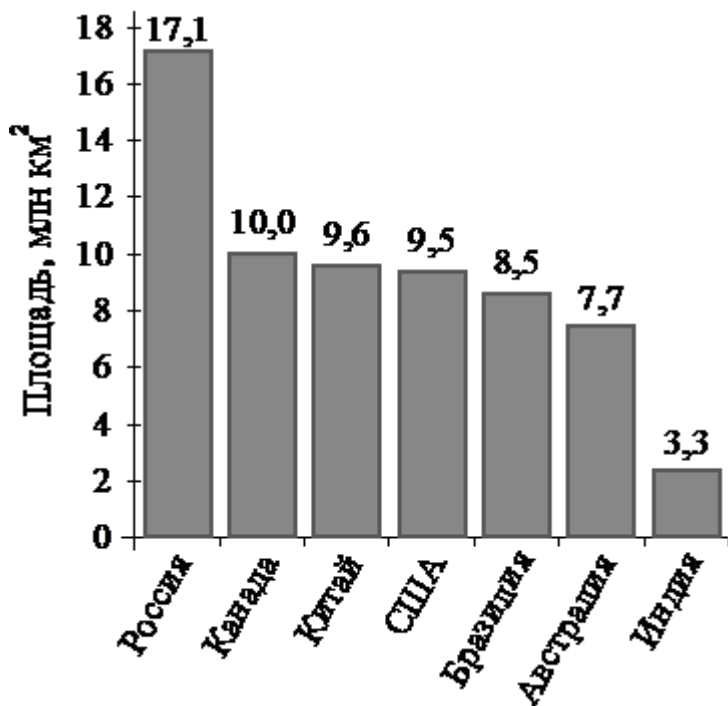


Какие из следующих утверждений **верны**?

- 1) США входят в семёрку крупнейших по площади территории стран мира.
- 2) Площадь территории Индии составляет 4 млн км².
- 3) Площадь территории Австралии больше площади территории Китая.
- 4) Площадь территории России больше площади территории Бразилии более чем вдвое.

В ответ запишите номера выбранных утверждений без пробелов, запятых и других дополнительных символов.

На диаграмме представлены семь крупнейших по площади территории (в млн км²) стран мира.

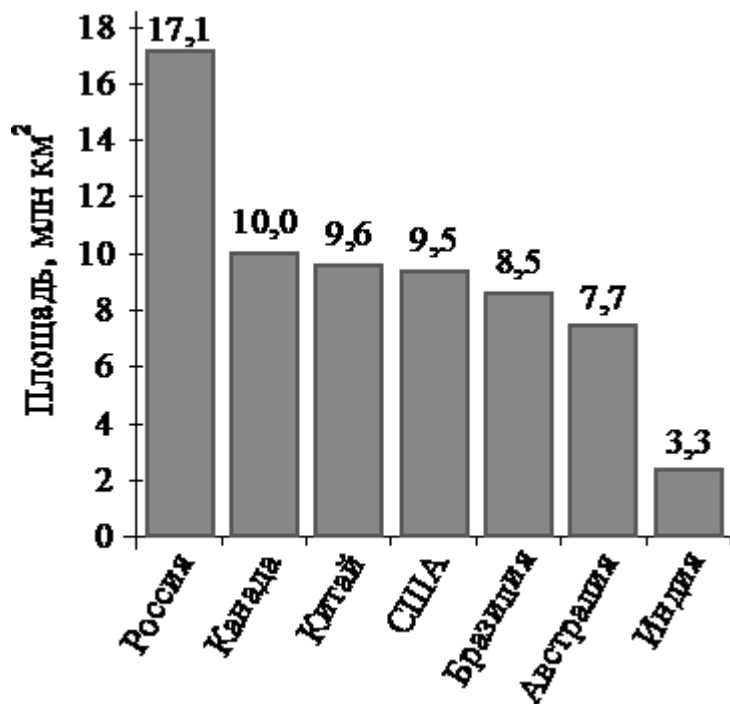


Какие из следующих утверждений верны?

- 1) Казахстан входит в семёрку крупнейших по площади территории стран мира.
- 2) Площадь территории Бразилии составляет 8,5 млн км².
- 3) Площадь территории Австралии больше площади территории Индии.
- 4) Площадь территории Бразилии больше площади территории Индии более чем в три раза.

В ответ запишите номера выбранных утверждений без пробелов, запятых и других дополнительных символов.

На диаграмме представлены семь крупнейших по площади территории (в млн км²) стран мира.

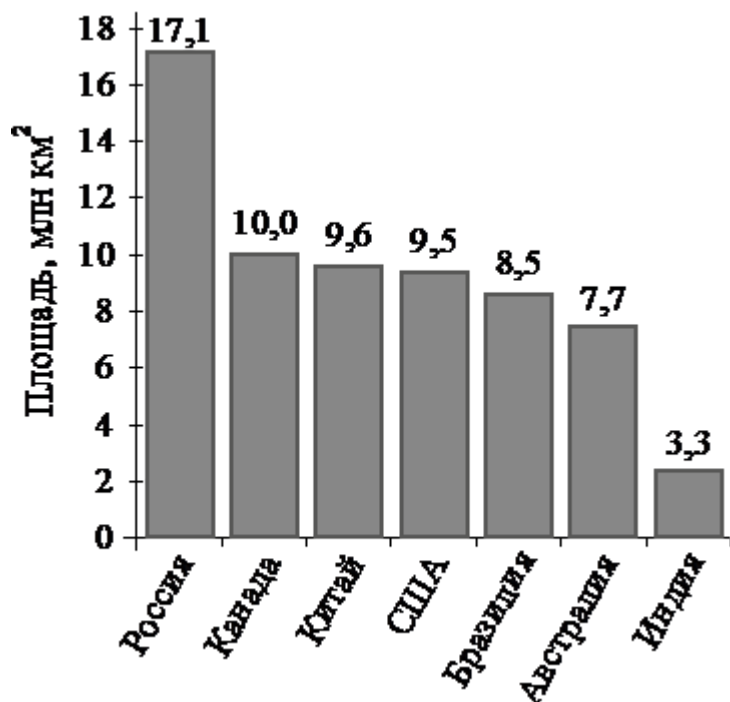


Какие из следующих утверждений верны?

- 1) Судан входит в семёрку крупнейших по площади территории стран мира.
- 2) Площадь территории США составляет 9,5 млн км².
- 3) Площадь территории Австралии больше площади территории Канады.
- 4) Площадь территории России больше площади территории Бразилии примерно вдвое.

В ответ запишите номера выбранных утверждений без пробелов, запятых и других дополнительных символов.

На диаграмме представлены семь крупнейших по площади территории (в млн км²) стран мира.



Какие из следующих утверждений верны?

- 1) Япония входит в семёрку крупнейших по площади территории стран мира.

- 2) Площадь территории Канады составляет 10 млн км².
- 3) Площадь территории Канады больше площади территории Индии.
- 4) Площадь территории России больше площади территории США примерно втрое.

В ответ запишите номера выбранных утверждений без пробелов, запятых и других дополнительных символов.